




**Exercice 1**

*A partir de la photographie de paysage, complétez le schéma et faites sa légende*

**Paysage de Manhattan (New York, États-Unis)**




**Légende :**



**Exercice 1**

*A partir de la photographie de paysage, complétez le schéma et faites sa légende*

**Paysage de Manhattan (New York, États-Unis)**



**Légende :**





**Exercice 2**

*A partir de la photographie de paysage, faites son schéma et sa légende*

**Paysage de Rio de Janeiro (Brésil)**



**Légende :**



**Exercice 2**

*A partir de la photographie de paysage, faites son schéma et sa légende*

**Paysage de Rio de Janeiro (Brésil)**



**Légende :**



### Exercice 3

A partir de ce que vous avez vu en cours et en utilisant votre réflexion, écrivez à côté de chaque espace géographique le figuré qui pourrait le représenter sur un schéma ou un croquis.

(exemple) Des usines :



Des habitations :

La mer :

Le déplacement de plusieurs  
personnes :

Des montagnes :

Les échanges d'argent :

Des routes :



### Exercice 3

A partir de ce que vous avez vu en cours et en utilisant votre réflexion, écrivez à côté de chaque espace géographique le figuré qui pourrait le représenter sur un schéma ou un croquis.

(exemple) Des usines :



Des habitations :

La mer :

Le déplacement de plusieurs  
personnes :

Des montagnes :

Les échanges d'argent :

Des routes :



### Exercice 4

A partir de la description d'une métropole, tentez de dessiner le plan de celle-ci et complétez sa légende.

TITRE : .....

#### DESCRIPTION :

Au centre d'une métropole, on retrouve une ville-centre autour de laquelle on retrouve les banlieues. Ces deux espaces sont collés l'un à l'autre et plus loin on retrouve des petites villes qui sont dans la campagne mais dans lesquelles on retrouve des personnes qui travaillent dans la ville-centre et qui font le trajet chaque jour.



#### Légende :



Ville-centre



Banlieue



Campagne

Petites villes

Trajet quotidien



### Exercice 4

A partir de la description d'une métropole, tentez de dessiner le plan de celle-ci et complétez sa légende.

TITRE : .....

#### DESCRIPTION :

Au centre d'une métropole, on retrouve une ville-centre autour de laquelle on retrouve les banlieues. Ces deux espaces sont collés l'un à l'autre et plus loin on retrouve des petites villes qui sont dans la campagne mais dans lesquelles on retrouve des personnes qui travaillent dans la ville-centre et qui font le trajet chaque jour.



#### Légende :



Ville-centre



Banlieue



Campagne

Petites villes

Trajet quotidien



### Exercice 5

Quand on regarde les paysages des métropoles, on peut voir les différences de richesses entre les habitants. Prouvez-le en réalisant le schéma de ce paysage de Mumbai :

Titre : Un paysage de Mumbai en Inde (Asie)



Légende :



Quartier des affaires



Bord de mer




Bidonville



### Exercice 5

Quand on regarde les paysages des métropoles, on peut voir les différences de richesses entre les habitants. Prouvez-le en réalisant le schéma de ce paysage de Mumbai :

Titre : Un paysage de Mumbai en Inde (Asie)



Légende :



Quartier des affaires



Bord de mer



Bidonville






### Exercice 6

Quand on regarde les paysages des métropoles, on peut voir les différences de richesses entre les habitants. Prouvez-le en complétant le schéma de ce paysage de New York :

Titre : Un paysage de New York aux États-Unis (Amérique)



Légende :

- Quartier des affaires
- Banlieues résidentielles
- Habitat collectif moins aisé

- Voies de communication
- Mer



### Exercice 6

Quand on regarde les paysages des métropoles, on peut voir les différences de richesses entre les habitants. Prouvez-le en complétant le schéma de ce paysage de New York :

Titre : Un paysage de New York aux États-Unis (Amérique)



Légende :





- Quartier des affaires
- Banlieues résidentielles
- Habitat collectif moins aisé

- Voies de communication
- Mer



### Exercice 7




A partir de vos connaissances, tentez de créer les définitions des mots de vocabulaires et de leurs exemples.

Mot	Exemple	Définition
Figuré de surface		
Figuré ponctuel		
Légende	<p>Légende :</p> <ul style="list-style-type: none"><li><input type="checkbox"/> Quartier d</li><li><input type="checkbox"/> Banlieues n</li><li><input type="checkbox"/> Habitat col</li></ul>	
Schéma		
Paysage		



### Exercice 7

A partir de vos connaissances, tentez de créer les définitions des mots de vocabulaires et de leurs exemples.

Mot	Exemple	Définition
Figuré de surface		
Figuré ponctuel		
Légende	<p>Légende :</p> <ul style="list-style-type: none"><li><input type="checkbox"/> Quartier d</li><li><input type="checkbox"/> Banlieues n</li><li><input type="checkbox"/> Habitat col</li></ul>	
Schéma		
Paysage	