



## 1 Tu seras communiste, mon fils

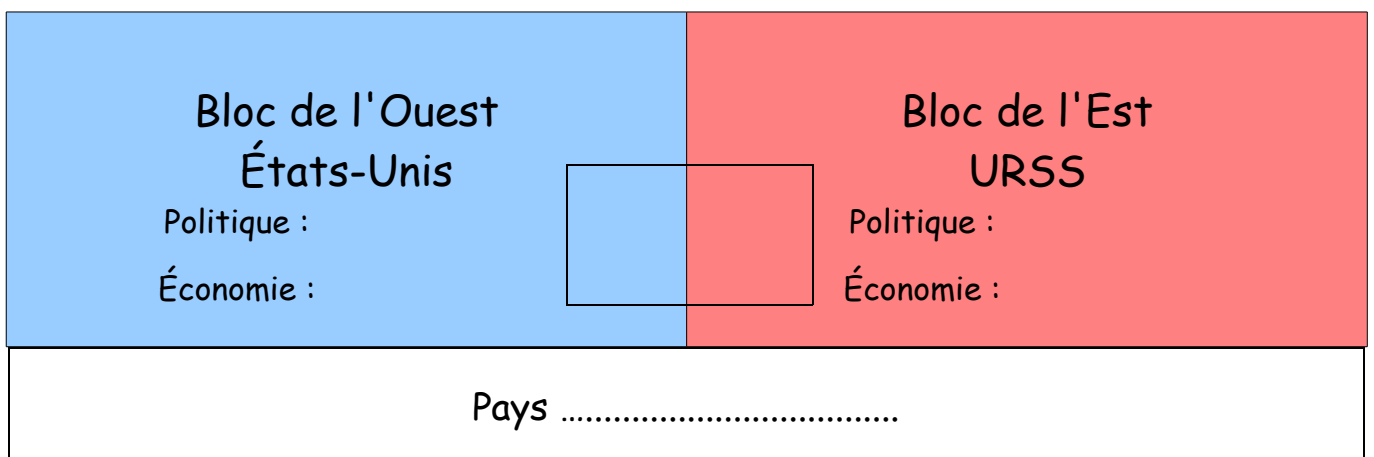
A partir de l'[extrait vidéo](#), répondez aux questions.

- 1) Quelle est la nature de ce document ? .....
- 2) Les images d'archives semblent avoir été filmées à quelle période ? Comment le déduisez-vous ?  
.....  
.....
- 3) Lorsque le narrateur était enfant, où passait-il ses vacances ? .....
- 4) Quel est le bord politique de ses parents ? Pourquoi, selon vous, est-ce important ?  
.....  
.....

## 2 Le monde bipolaire

A partir de votre [manuel](#) p. 150-151, répondez aux questions suivantes :

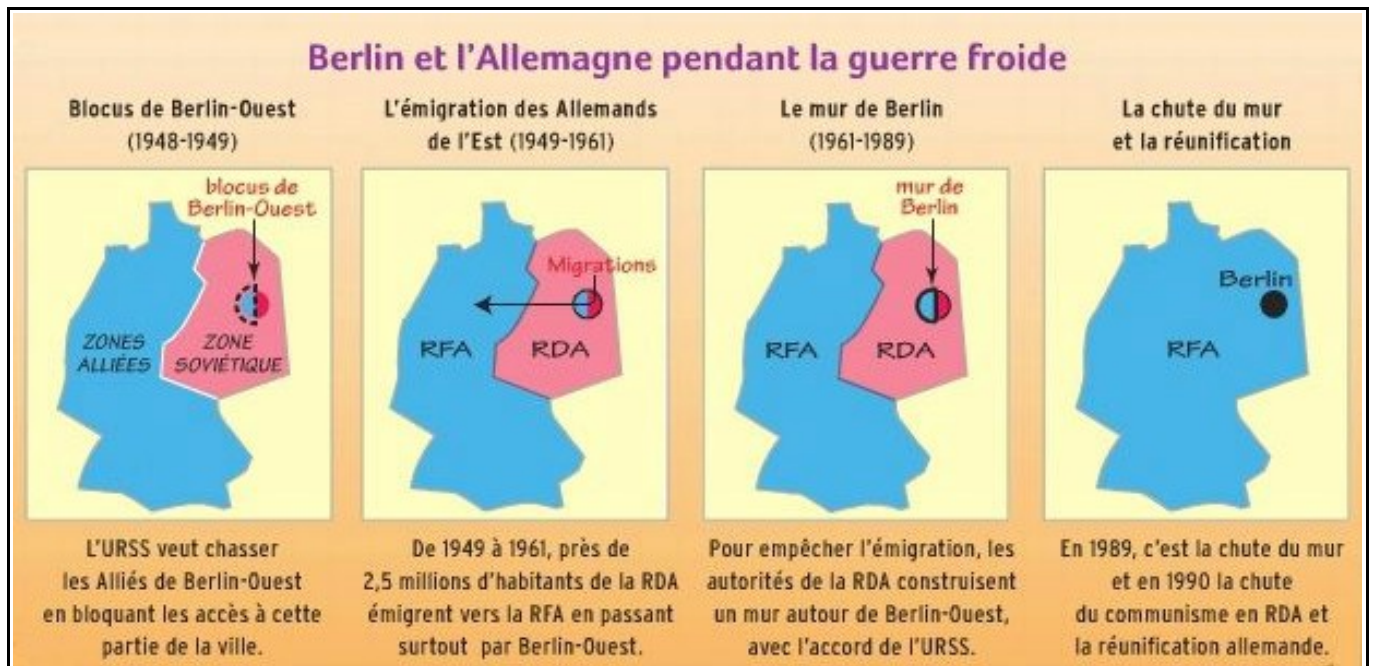
- 1 ) Quelle est la grande différence idéologique entre les États-Unis et l'URSS ? .....
- 2 ) Quel est le moyen utilisé par chacun des deux camps pour montrer sa puissance ? .....
- 3 ) Dans quelles parties du monde se trouvent les principales bases militaires des deux camps ? .....
- 4 ) Y a-t-il réellement deux pôles bien identifiés dans le monde à cette époque ? .....
- 5 ) A partir de vos observations, complétez ce schéma :



### 3 Berlin dans la Guerre froide

Manuel p. 156-157

La ville de Berlin est au cœur de la Guerre froide et elle connaît plusieurs crises importantes. A partir de cette étude, vous devrez définir le schéma type d'une crise durant la Guerre froide.



#### Partie 1 : la crise de 1948

A partir des documents 1 et 2 :

- 1) Quelles sont les 4 zones d'occupation à Berlin en 1948 ? .....
- 2) Par rapport aux deux zones, quel est le problème de Berlin pour les Soviétiques ? .....
- 3) Que font les Soviétiques pour forcer les Alliés à quitter Berlin-Ouest et comment ces derniers réagissent ? .....
- 4) Qui gagne cette crise ? .....

#### Partie 2 : la construction du mur de Berlin

A l'aide des documents 3 et 4 et du document vidéo :

- 1) En quelle année se déroule cette crise ? .....
- 2) Que font les autorités de l'Allemagne de l'Est ? Pourquoi ? .....
- 3) Comment réagissent les Américains ? .....
- 4) Qui gagne cette crise ? .....

### Partie 3 : la chute du mur et la réunification de l'Allemagne

A partir du document 5 et de l'extrait vidéo :

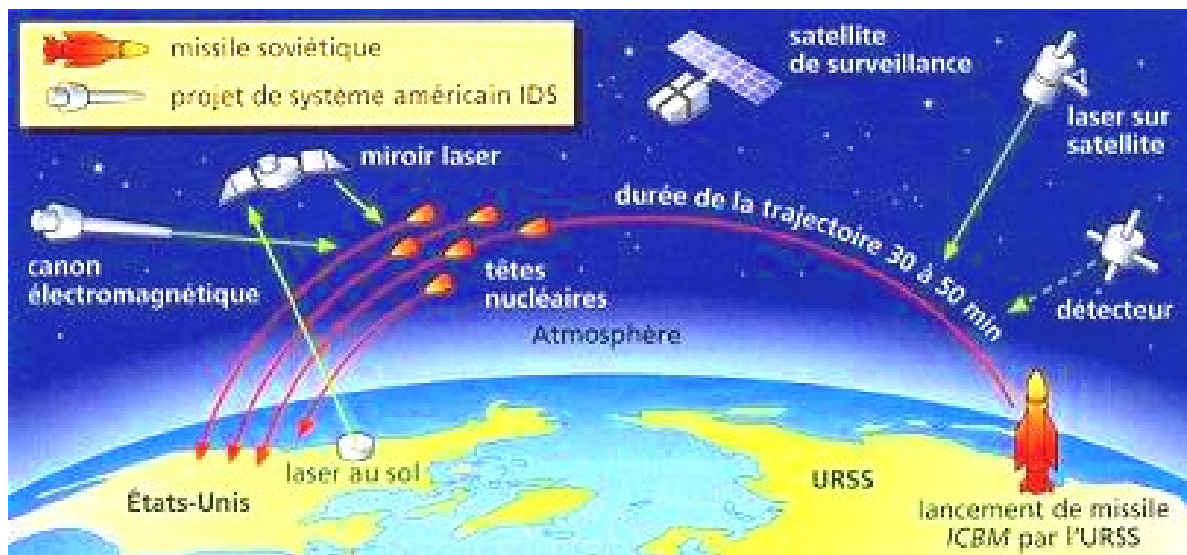
- 1) Quelle est la date de la chute du mur de Berlin ? .....
- 2) Dans quelle partie de l'Allemagne des manifestations avaient-elles eu lieu ? .....
- 3) A quel camp profite cette crise ? .....

### Partie 4 : Une crise dans la guerre froide

A partir de ce que vous venez de voir, tentez d'expliquer comment se passe et se gagne une crise durant la Guerre froide ?

## 4 La crise de Star Wars

La rivalité entre l'URSS et les États-Unis est aussi tournée vers la course à l'armement. Dans les années 1980, les États-Unis lancent le projet IDS qui est vite surnommé par les journaux de l'époque le projet Star Wars (le film venait de sortir).



A la même époque, l'URSS connaît de graves difficultés économiques et ne peut développer un projet qui puisse contrer celui des Américains.

Question : Qui gagne cette crise de la Guerre froide ? Expliquez pourquoi.....  
.....  
.....



## 5 Une guerre culturelle

La Guerre froide marque les individus mais également les cultures. On peut facilement le voir à partir de cette couverture.

- **Titre** : *Captain America*
- **Nature** : Comic américain (bande dessinée américaine)
- **Numéro et date** : n°78, septembre 1954
- **Auteurs** : John Romita (dessinateur), Stan Lee (scénariste)
- **Éditeur** : Atlas Comics (ancienne appellation des éditions Marvel Comics), éditeur de bandes dessinées

### Histoire de l'œuvre

La bande dessinée est née en décembre 1941 pendant la guerre. Captain America affrontait alors les nazis et les Japonais. Pendant la guerre froide, ses principaux ennemis sont les Soviétiques et les communistes.



### DOCUMENT Couverture de *Captain America*

- ① Captain America, doté d'une force surhumaine par l'armée américaine  
② Electro, créé par des savants soviétiques, a été envoyé aux États-Unis pour tuer Captain America  
③ Les soldats communistes  
④ « Découvrez Captain America défiant les hordes communistes »  
⑤ « Captain America, l'écraseur de communistes »  
⑥ Bucky, le bras droit de Captain America

- 1 ) Quelle est le genre de ce document ? .....
- 2 ) De quel pays est originaire ce document ? .....
- 3 ) Relevez deux éléments qui montrent le danger du communisme selon les auteurs :  
.....
- 4 ) Quelle est la différence physique entre Captain America et ses ennemis ?  
.....
- 5 ) Pourquoi peut-on dire que ce document est de la propagande ?  
.....

## 6 La chute de l'URSS

A partir du document ci-dessus et de l'[extrait vidéo](#), remplissez le tableau en y formulant les trois reproches que fait Gorbatchev au système soviétique.

### Gorbatchev dresse le bilan de son mandat

« Tout ici est en abondance, la terre, le pétrole, le gaz, le charbon [...] et pourtant nous vivons bien plus mal que dans les pays développés. Il n'était plus possible de vivre ainsi, il fallait tout changer. [...]

1. Le système totalitaire qui a privé le pays de la possibilité qu'il aurait eue depuis longtemps de devenir heureux et prospère, a été liquidé : une percée a été effectuée sur la voie des transformations démocratiques.
2. Les élections libres, la liberté de la presse, les libertés religieuses, le multipartisme sont devenus une réalité.
3. La marche vers une économie multiforme a commencé, l'égalité de toutes les formes de propriété s'établit. »

Déclaration de démission de Gorbatchev,  
25 décembre 1991

### Les critiques de Gorbatchev du système soviétique

Système économique	Respect des libertés	Système politique