



Thème 1 :L'urbanisation du monde
Espaces et paysages de l'urbanisation

1 C'est quoi la ville ?

.....
.....
.....

.....
.....
.....



.....
.....
.....

.....
.....
.....

Questions :

1) Quelle est la nature de ces documents ?.....

2) Trouvez trois adjectifs pour chacun de ces paysages (à noter sur les pointillés)

3) Quel est l'image qui, selon vous, représente le mieux le mot « ville » ? 1 2 3 4

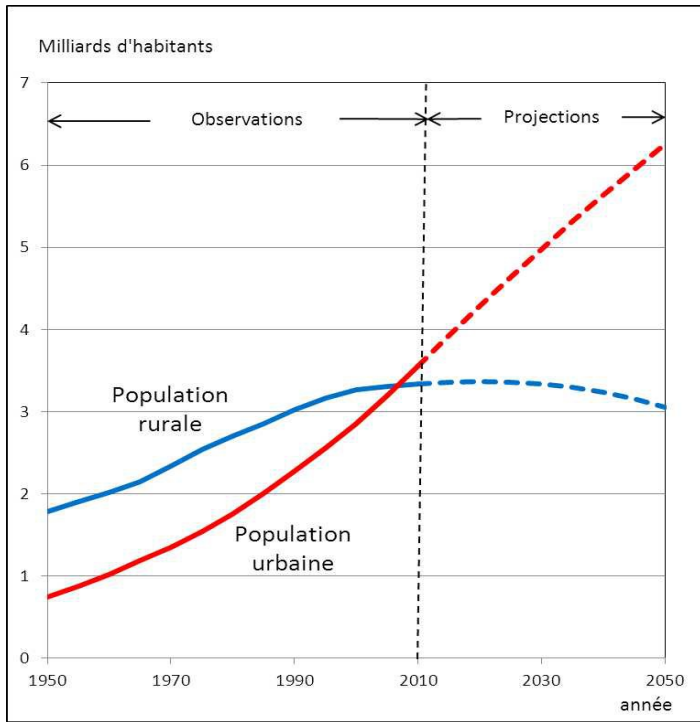
Pourquoi ?

4) Cherchez dans le dictionnaire la définition du mot *urbanisation* et recopiez-la.

.....
.....
.....

2 L'évolution de la population urbaine

A partir du document suivant, répondez aux questions



1) Quelle est la nature de ce document ?

2) Que représentent ces deux courbes ?

3) Quels sont les deux parties de ce document ?

Qu'est-ce que cela signifie ?

4) De combien était (à peu près) la population urbaine mondiale vers 1970 ?

5) De combien est-elle (à peu près) en 2010 ?

6) De combien serait-elle en 2050 selon ce graphique ?

3 Les paysages dans les séries télévisées

Faites attention aux paysages qui sont représentés dans les extraits vidéo puis répondez aux questions :

Extrait 1 : Les experts Manhattan

1) Dans quelle ville se trouve-t-on ?

2) Relevez quelques genres de bâtiments ou de construction qui sont filmés par la caméra :

3) Pour favoriser l'attention des spectateurs, les séries alternent souvent gros plans et plans larges.

Faites attention à cela et relevez ce qui est généralement représenté dans :

Les gros plans :

Les plans larges :

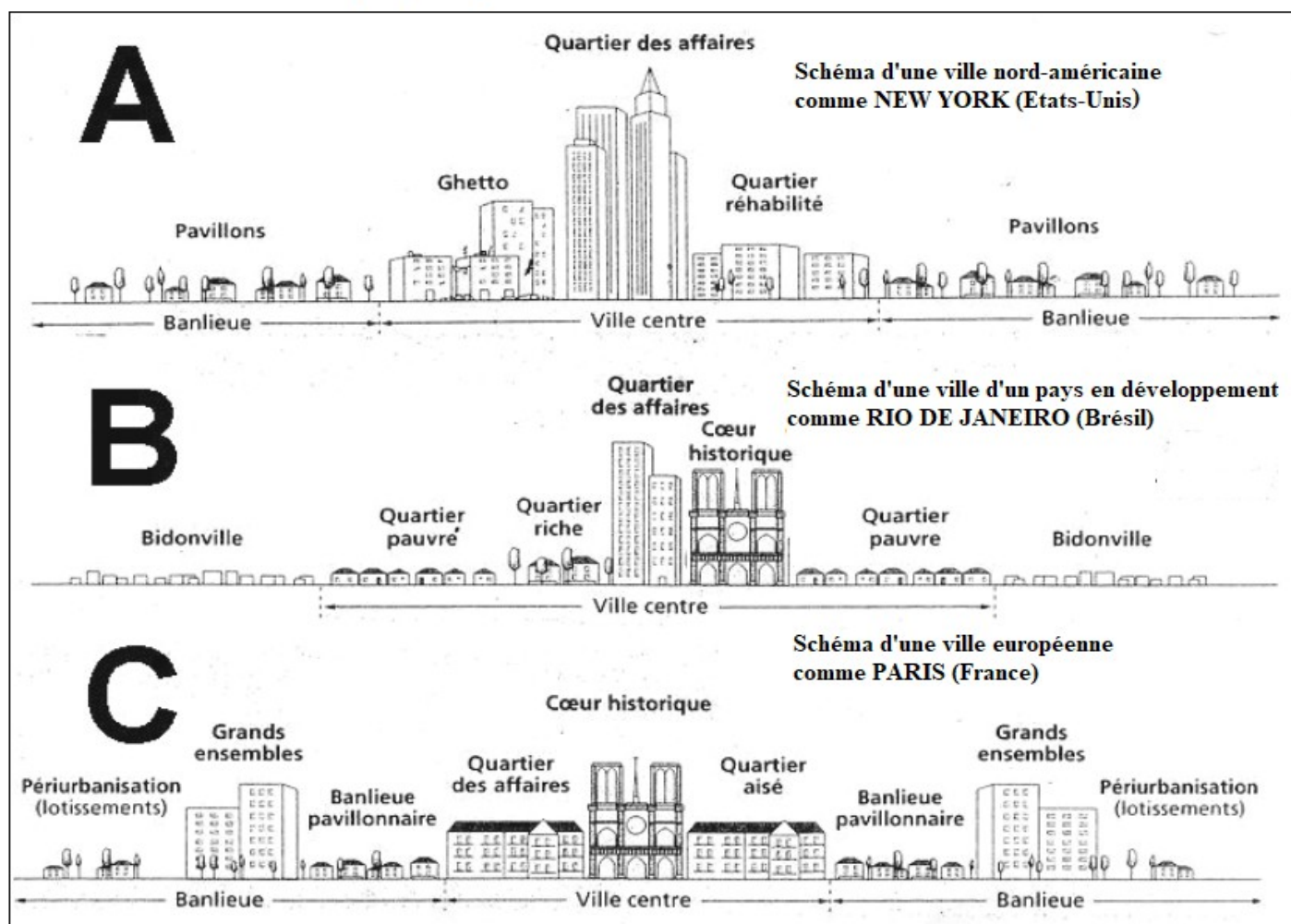
4) Quelle image de la ville donne cette série ? A votre avis, pourquoi ?

Extrait 2 : Les experts Miami

1) Dans quelle ville se trouve-t-on ?

2) Quelle est l'impression que donne cette ville filmée ainsi ?

Schémas des paysages des villes du monde



Questions

A partir du document ci-contre, répondez aux questions.

1) Sur quel continent se trouve-t-on ? Pour la ville :

A : B : C :

2) Quel élément est présent dans les trois schémas ?

3) Dans quelle partie des villes se trouvent les espaces les plus importants ?

4) A partir de ce que vous comprenez de cette organisation spatiale, coloriez sur les schémas :

- en rouge les quartiers riches
- en orange les quartiers des classes moyennes
- en jaune les quartiers pauvres

5) Peut-on dire que l'organisation spatiale des villes selon la richesse est partout la même ? (justifiez votre réponse)


5 New York à l'épreuve de la vérité

A partir de ce que nous avons vu, travaillez sur les différents quartiers de New York.

- 1) Reliez chacune des photographie au quartier de New York dans lequel elle a été prise.
- 2) A partir de vos observations, quel quartier devrait être le plus riche ?
- 3) Cela se voit-il par son paysage ?
- 4) Quel quartier semble le plus pauvre ?
- 5) Cela se voit-il sur les deux photographies de ce quartier ?
- 6) En vous appuyant sur le travail fait sur l'organisation spatiale des villes, entourez
 - en rouge le quartier riche
 - en orange les quartiers des classes moyennes
 - en jaune les quartiers pauvres
- 7) Que peut-on dire de l'organisation spatiale des villes par rapport à la richesse de ses habitants ?
.....
.....

6 Vocabulaire à retenir

A partir des définitions, remplissez cette grille de mots croisés.



Horizontal

2. Parties qui composent une ville
3. Autre nom du quartier des affaires en Amérique du Nord
5. En Géographie on ne dit pas 'pays pauvres' mais 'pays en ...'
6. types de logements pour classes moyennes que l'on retrouve dans les banlieues

Vertical

1. Espaces qui se trouvent autour du cœur de la ville
3. Cœur d'une ville
4. Séparation de la ville en quartiers selon les niveaux de richesse



Time Square (Manhattan)



Un carrefour de Manhattan



Une rue du Bronx



Une rue de Staten Island



Une rue de Brooklyn

Un carrefour à Brooklyn



Une rue commerçante du Queens



Bâtiments administratifs du Bronx