

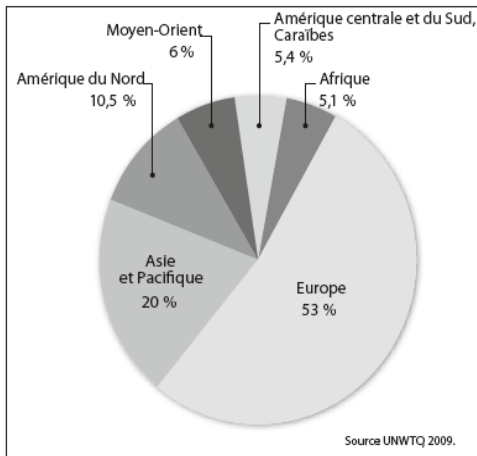


## Thème 2 : Les mobilités humaines transnationales Le tourisme et ses espaces

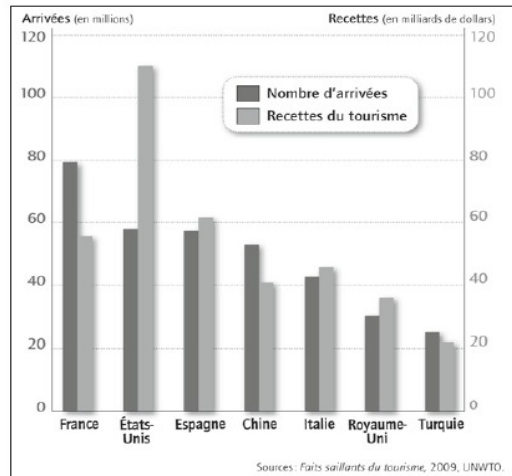
### 1 Quelques chiffres

A partir des documents suivants, répondez aux questions.

1. L'origine des touristes dans le monde en 2008.



Les principaux pays touristiques, fréquentation et recettes.



1) Quelle est la nature de ces documents? .....

2) Entourez en rouge le nom du continent d'où vient la majorité des touristes dans le monde.

3) Que représentent chacune des colonnes dans le document 2 ? .....

4) A quel continent appartiennent les trois premiers pays touristiques du monde ? .....

5) Pour quel pays le tourisme est-il le plus rentable ? .....

### 2 Carte en mains

Titre : .....



**Légende :**

#### 1. Les lieux du tourisme

Espaces d'où partent les touristes

Principales destinations touristiques

#### 2. Les flux du tourisme

Flux majeurs

Flux secondaires

A partir de votre manuel p.257, complétez ce planisphère :

- 1) Donnez lui un titre.
- 2) Placez, en choisissant leur couleur, les principaux espaces d'où partent les touristes.
- 3) Coloriez une destination touristique importante pour chacun de ces trois espaces.
- 4) Indiquez en rouge les flux les plus importants et en orange quelques flux secondaires.
- 5) Complétez la légende.

### 3 Le tourisme en Tunisie, une destination de rêve ?

A l'aide de votre manuel p. 212-215, répondez aux questions suivantes afin de comprendre les raisons de l'attraction des touristes pour la Tunisie.

#### I. Port El-Kantaoui, un paradis touristique



1) Sur cette photographie aérienne, coloriez en vert les lieux de loisirs, en orange les lieux de résidence (hôtels, résidences...) et en rouge repassez les infrastructures de transport.

2) Dans quelle direction et sur quel type de terrains Port El-Kantaoui est maintenant obligé de s'étendre ?

.....  
.....  
.....  
.....

3) Indiquez-le par une flèche.

4) Complétez la légende.

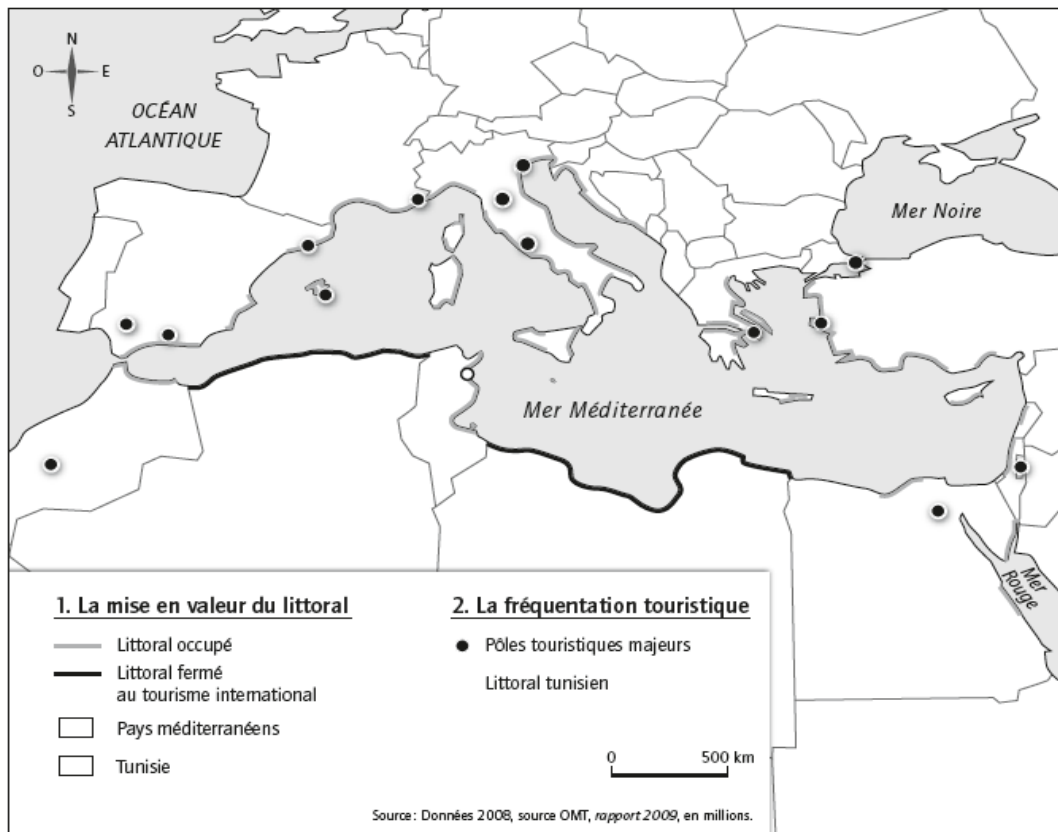
Légende

<input type="checkbox"/>	.....
<input type="checkbox"/>	.....
<input type="checkbox"/>	.....
→	.....

5) Après avoir vu comment le littoral a été aménagé, nous nous posons la question de savoir si le tourisme à Port el-Kantaoui est un avantage ou pose problème. Cherchez deux éléments pour chaque réponse.

Avantage	Inconvénient

## II. Pourquoi la Tunisie est-elle une grande destination touristique ?



1. Repassez en rouge les frontières de la Tunisie et inscrivez le nom des principaux pays limitrophes. (doc.4 p. 215)

2. Repassez en vert le littoral tunisien touristique et situez Port el-Kantaoui.

3. La Tunisie est-elle le seul pays touristique du bassin méditerranéen ?  Oui  Non

4. Situez sur la carte deux pays touristiques du Maghreb et deux pays touristiques des rives nord de la mer Méditerranée. Quelle est la principale différence entre ces deux groupes de pays qui pourrait expliquer le succès touristique de la Tunisie ?

.....

.....

.....

5. Recherchez dans votre manuel comment la Tunisie varie son offre touristique et remplissez ce tableau.

Offre proposée	Comment est-elle mise en œuvre ?

## 4 Le tourisme à Prague, un nouveau tourisme ?

A partir de l'extrait de l'émission de radio qui sera diffusé, répondez aux questions suivantes.

**Document : Extrait de l'émission de Radio Praha du 30 décembre 2009.**

- 1) Quelle est la période phare pour le tourisme à Prague ? .....
- 2) Combien de touristes vont être accueillis à Prague lors du Nouvel An ? .....
- 3) Qui vient visiter Prague ?  Des jeunes  Des familles  Des retraités
- 4) De quel continent sont originaires la plupart des touristes de Prague ? .....
- 5) Où est déjà allée la touriste Caroline de Savoie ? .....
- 6) De combien de pourcent a baissé le nombre de touristes étrangers par rapport à 2008 ?  
.....

A partir de l'image projetée de Prague répondez aux questions suivantes :

- 1) En quoi la ville de Prague peut-elle attirer principalement lors des fêtes de fin d'années ?  
.....  
.....
- 2) Quel problème cela peut-il poser pour la modernisation de la ville ?  
.....  
.....

A partir du document suivant, tentez d'expliquer pourquoi Prague connaît un réel succès auprès des touristes européens ?

