



Le Seigneur au Moyen Age


1 Qu'est-ce qui lui appartient ?

Sur le cartulaire de la seigneurie des Billettes, relevez les éléments qui semblent appartenir au seigneur.

2 Où vit-il ?

A partir de vos souvenirs du cycle 3, remplacez les mots suivants sur ce schéma :

créneau / courtine / pont-levis / basse-cour / donjon / meurtrière / fossé



1) Dans quelle partie du château vit le seigneur ?

2) A quoi servent alors les autres constructions ?

3) Regardez sur le cartulaire de la seigneurie des Billettes, quelle place occupe le château du seigneur ?

3 Quel rôle pour le seigneur ?



Kaamelott, « Feu l'âne de Guethenoc », Livre I épisode 62, AlexandreAstier, 2006

1) Ce document est-il un document historique ? Justifiez.

2) Qui sont les personnages qui se présentent devant le seigneur ?

3) Comment peut-on appeler ce que fait le seigneur dans cet extrait ?

4 Quelles contreparties ?

Les charges pesant sur les paysans

Une complainte est une chanson populaire racontant les malheurs d'un ou plusieurs personnages. Celle-ci est écrite par un moine, selon lequel la vie est plus dure dans les seigneuries possédées par des laïcs.

[Les paysans du village de Verson] doivent les prés faucher, puis rassembler, appareiller et tasser le foin au milieu. Quand ils les auront assemblés, ils les doivent porter au manoir¹ quand on le leur fera savoir... Après ils doivent curer le canal [...]. Et vient ici le mois d'aout : ils doivent faucher les blés, les rassembler, les appareiller et entasser au milieu

du champ... Ils doivent les porter à la grange. Ils exécutent ce service dès l'enfance... Ils chargent le champart² en leur charrette [...] et leur blé demeure d'autre part au vent et à la pluie... Après vient la Notre-Dame en septembre³ où il convient de fixer le porçage⁴.

Complainte des vilains de Verson, XIII^e siècle.

1. Au château.
2. La part des récoltes due au seigneur.
3. Le 8 septembre.
4. Obligation de donner un porc de son élevage parmi les plus beaux.

- 1) Ce document est-il un document historique ? Justifiez.
- 2) Soulignez, dans ce texte, les travaux que doivent faire les paysans.
- 3) Pour qui doivent-ils faire cela ?
- 4) Que sont le « champart » et le « porçage » ?
- 5) Quelle est la différence entre les prés fauchés au début du texte et ceux fauchés au milieu du texte ?
- 6) Sur le cartulaire des Billettes, retrouvez les lieux dont parle ce texte.

5 Montrer la puissance du seigneur

Un tournoi de chevaliers



▲ Miniature, *Chroniques de Froissart*, XV^e siècle (British Library, Londres).

Lors des tournois, les chevaliers s'affrontent dans des lices à l'extérieur ou dans la cour du château. Ils montrent leur valeur au seigneur et à ses courtisans. Les tournois les plus spectaculaires sont les joutes, avec des cavaliers armés de lances.

- 1) Que représente ce document ?
- 2) Qui participe à ce genre d'événements ?
- 3) Quel est le but des participants à cet événement (en dehors du fait de gagner...) ?
- 4) A quoi peuvent servir les participants de cet événement lorsque celui-ci n'a pas lieu ?
- 5) Selon vous, quelles sont les raisons pour lesquelles le seigneur organise ce genre d'événements ?



Les paysans au Moyen Age

1 Où vivent-ils ?

Sur le cartulaire de la seigneurie des Billettes, retrouvez les lieux où semblent vivre les paysans.

2 L'essor des campagnes au XIIIe siècle

A partir des deux documents, expliquez pourquoi les campagnes connaissent un essor au XIIIe siècle.

1) Que peut-on dire de l'évolution de la forêt en Europe du Nord-Ouest entre 1000 et 1300 ?

2) A votre avis, qui a provoqué cette évolution ?

3) Si la surface des forêts diminue, quelle surface augmente ?

4) Dans le document ci-dessous, coloriez

- en jaune les champs qui sont travaillés au printemps et en été
- en bleu les champs qui sont travaillés en automne et en hiver
- comment s'appelle le fait de laisser une terre au repos ?

5) Pourquoi appelle-t-on ce système l'assolement triennal ?

Evolution de la forêt en Europe du Nord-Ouest



La pratique de l'assolement triennal



	Champs de l'ouest	Champs du nord	Champs du sud
1 ^{re} année	Céréales d'hiver (blé)	Céréales de printemps (avoine)	Jachère
2 ^e année	Céréales de printemps (avoine)	Jachère	Céréales d'hiver (blé)
3 ^e année	Jachère	Céréales d'hiver (blé)	Céréales de printemps (avoine)

3 La vie au village

La création d'un village

À Vaucresson¹, nous avons fondé un village et bâti une église et une maison, et nous avons fait défricher à la charrue la terre inculte. Il y a déjà beaucoup d'hôtes² et beaucoup d'autres veulent encore venir. Ce lieu, en effet, était comme une caverne de voleurs car désert sur plus de deux lieues, repaire de brigands et de vagabonds en raison de la proximité des bois.

Charte du 31 mars 1146, accordée par Suger, abbé de Saint-Denis.

- 1. Près de Paris.
- 2. Paysans nouveaux venus.

1) Présentez ce document :

.....
.....
.....
.....

2) Qui vient s'installer dans ce village ?

.....

3) Qui les autorise à s'y installer ?

.....

4) Quelles sont les deux premières choses que fait le seigneur ?

.....

5) Dans le document suivant, quelles sont les activités des paysans au Moyen Âge ?

.....

.....

.....

.....

6) Quels sont les membres de cette famille de paysans ?

.....

.....

.....

.....

6) Que voit-on à l'arrière-plan de cette miniature ? Comment le savez-vous ?

.....

.....

Une maison paysanne à la fin du Moyen Âge



Détail d'une miniature des Très riches heures du duc de Berry, xv^e siècle



L'Église au Moyen Age

1 Quelle place dans la seigneurie ?

Sur le cartulaire de la seigneurie des Billettes, retrouvez les lieux qui sont liés aux membres de l'Église.

A partir du document qui parle de la création d'un village, que pouvez-vous dire de la place de l'Église dans l'organisation d'une seigneurie ?

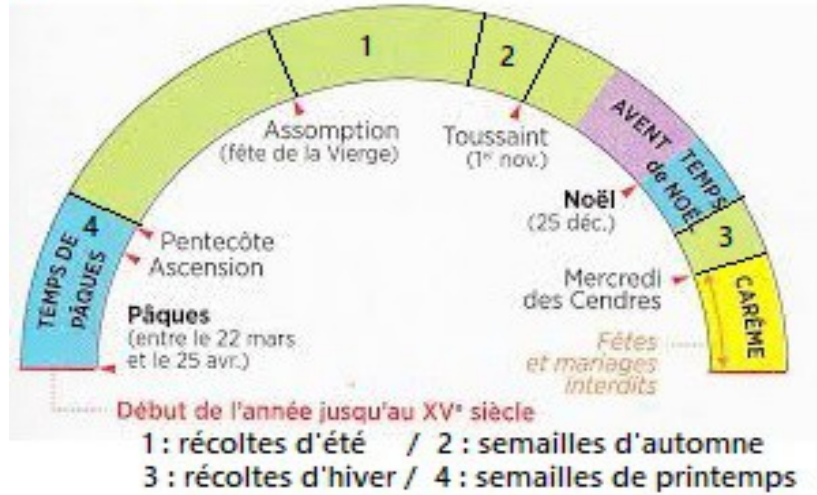
2 Un rythme de vie organisé par la religion

1) Ce document est-il un document historique ?

2) Combien de fêtes compte une année chrétienne au Moyen Age ?

3) Quelles sont les autres indications présentes sur ce document ?

L'organisation d'une année médiévale



4) Pourquoi peut-on dire que les grandes étapes de l'année sont rythmées par la religion ?

3 Le tympan de Conques

A partir de votre manuel p. 73, remplissez ce schéma du tympan de l'Église Sainte-Foy de Conques

Satan règne sur l'Enfer / Jesus Christ juge les hommes / Un démon joue avec un ange / Les vivants / Le ciel / Les non-chrétiens / Supplices infligés aux mauvaises personnes (x2)

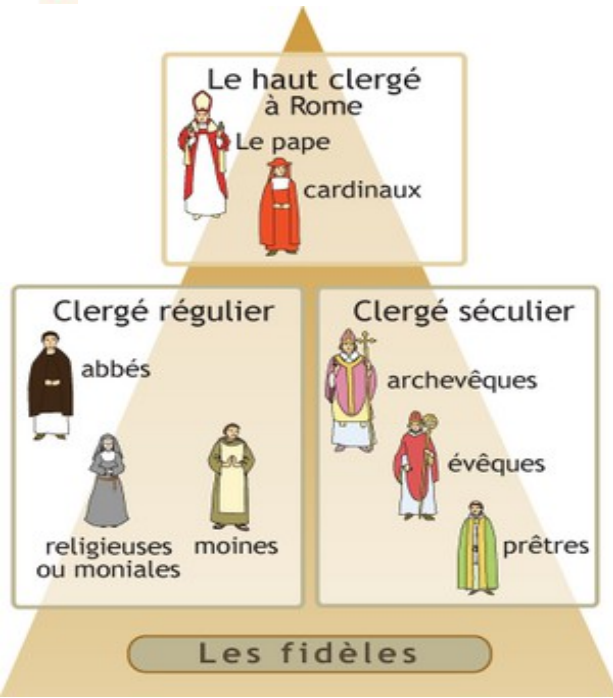


- 1 :
- 2 :
- 3 :
- 4 :
- 5 :
- 6 :
- 7 :
- 8 :

Jugement Paradis Enfer

4 L'organisation de l'Église

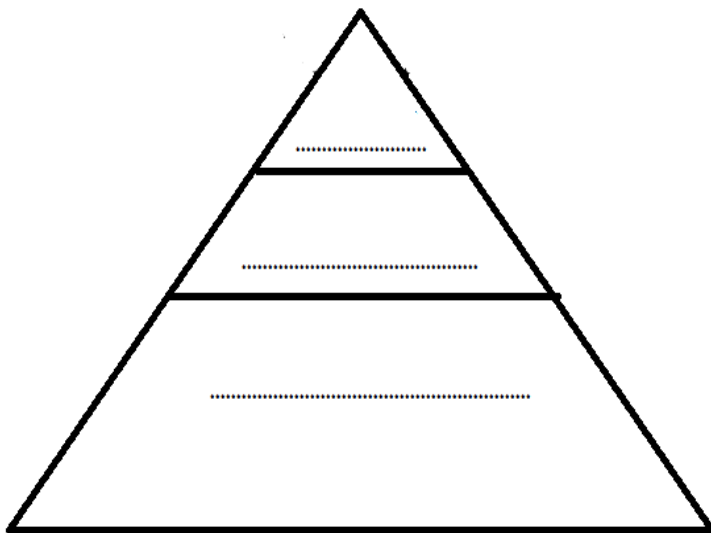
L'organisation de l'Église



- 1) Quelle est la nature de ce document ?
- 2) Est-ce un document historique ?.....
- 3) En combien de parties est organisée l'Église catholique ?
- 4) Qui dirige l'Église ?
- 5) Que représente le terme « les fidèles » en bas de ce document ?

L'organisation de la société

A partir de ce que vous avez pu observer depuis le début de ce chapitre, essayez de replacer les trois grandes catégories de personnes que nous avons vues dans ce schéma de la société au Moyen Age :



- 1) A partir de ce schéma, que peut-on dire de l'organisation de la société au Moyen Age ?
- 2) Manque-t-il une catégorie de personnes sur ce schéma ?