




Thème 2 :

# Les trois grands monothéismes

## 1 Architectures

Regardez les trois photographies puis remplissez le tableau.



.....

.....

.....

Pareil	Pas pareil

## 2 Jérusalem

1 ) La ville de Jérusalem est qualifiée de « trois fois sainte ». A partir de [l'extrait vidéo](#), expliquez les raisons de son importance pour :

- les chrétiens : .....

.....

- les musulmans : .....

.....

- les juifs : .....

.....

2) Retrouvez à quelle religion se rapportent chacun de ces bâtiments de Jérusalem :

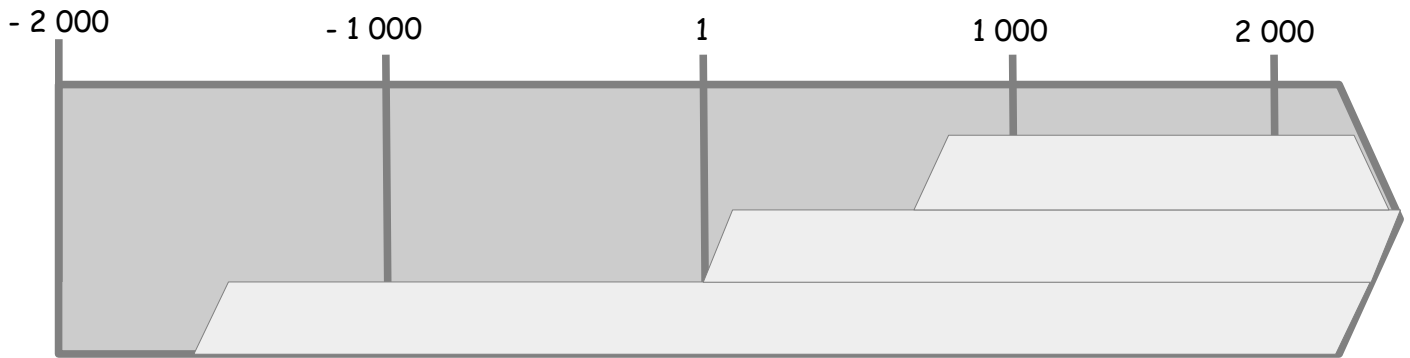
Le Dôme du Rocher •

Le Mur des Lamentations •

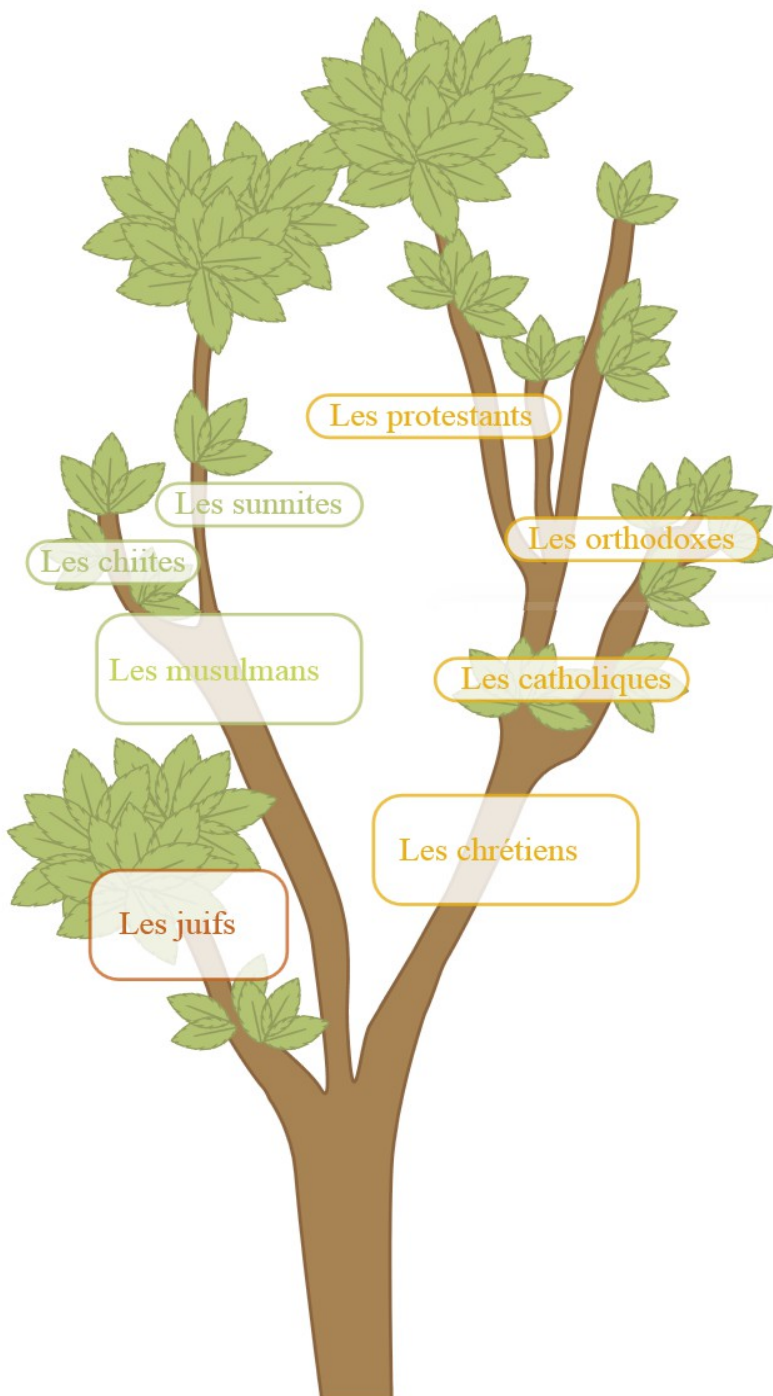
Le Saint Sépulcre •

### 3 Remise en ordre

A partir de l'extrait vidéo, replacez sur la frise chronologique ci-dessous l'apparition des trois grands monothéismes :



### 4 Les branches des religions



- 1) Sur ce document, repérez
  - les cases ayant un rapport avec le judaïsme
  - les cases ayant un rapport avec le christianisme
  - les cases ayant un rapport avec l'islam

- 2) Quelle est la nature de ce document ? ( 2 réponses sont possibles)
  - un dessin
  - un schéma
  - un graphique
  - un tableau

3) Selon vous, pourquoi l'auteur de ce document a-t-il cherché à représenter les trois religions organisées autour d'un arbre ?

.....

.....

.....

.....

.....

.....