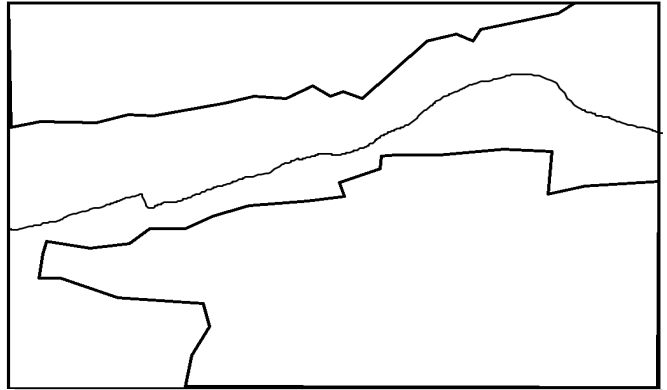


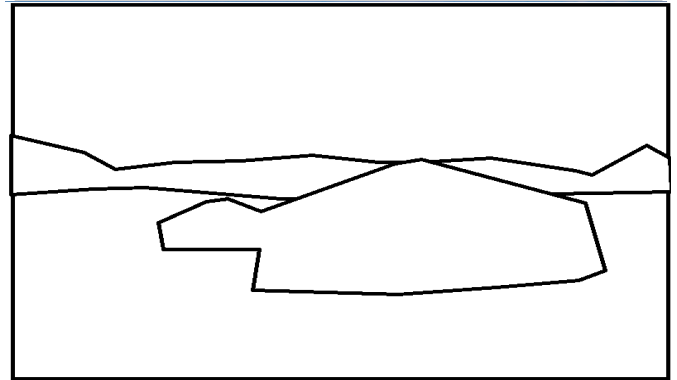
Thème 1 : Le monde habité

1 Habiter ne veut pas dire la même chose partout


1) En face de chaque photographie, réalisez son schéma à partir des indications vues en classe
Document 1 : Atitlan au Guatemala



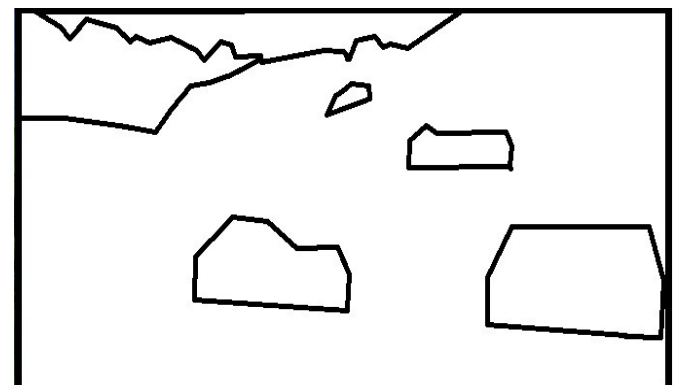
Document 2 : des yourtes en Mongolie



Document 3 : Johannesburg en Afrique du Sud



Document 4 : Appenzel en Allemagne



Légende générale des schémas :



.....

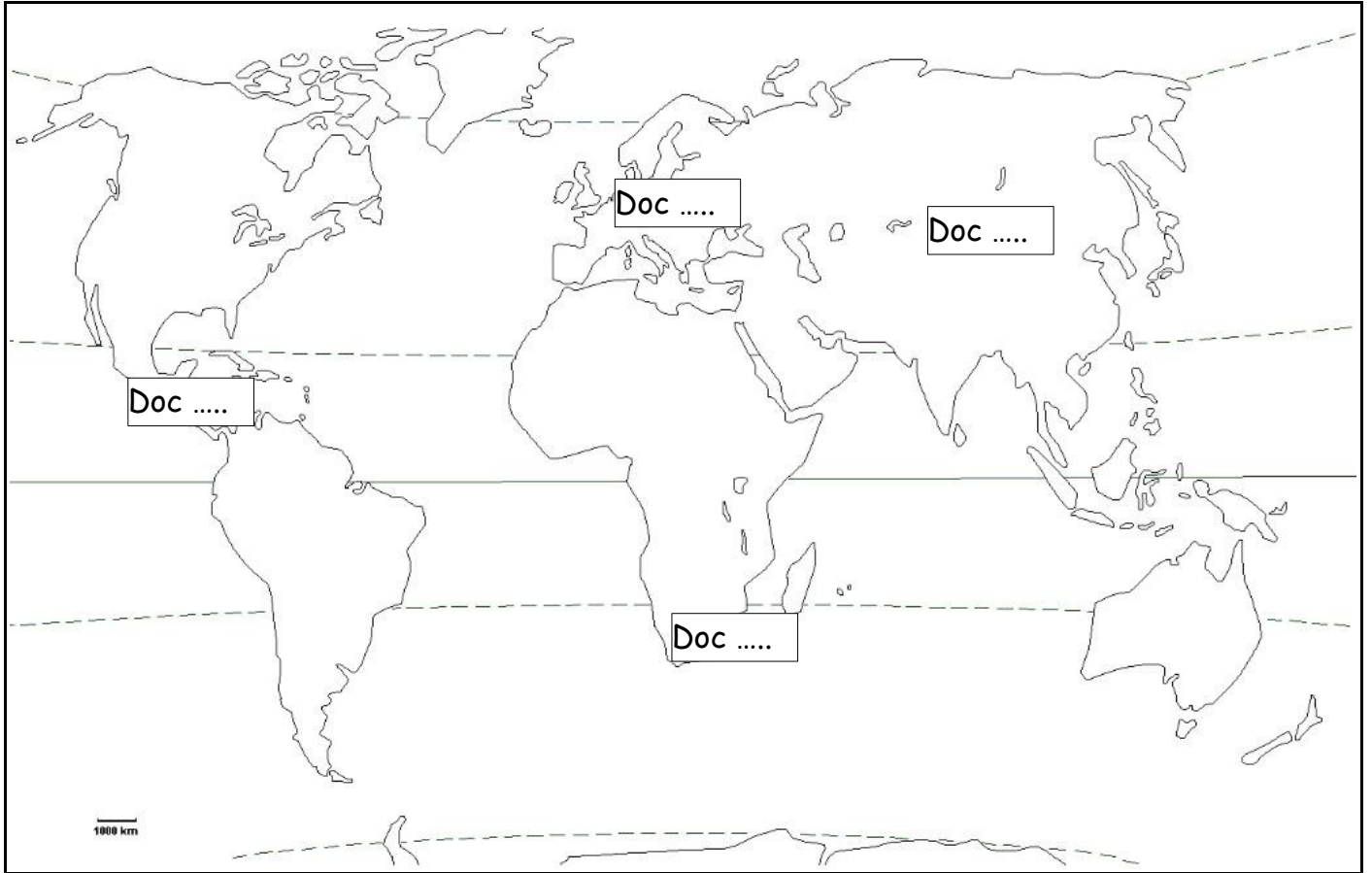


.....




.....

2) Remplacez maintenant chacun de ces paysages sur le planisphère suivant :




3) Trouvez pour chacun de ces schémas la forme de peuplement à laquelle il correspond.
Vous choisirez dans la liste : habitat dispersé / ville / habitat nomade / village


.....



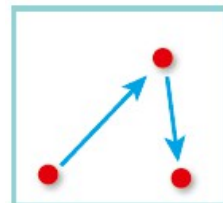
.....



.....



.....



2 Plus ou moins la même chose... mais vue différemment

1) Après l'exercice fait en classe, classez les différents paysages du plus au moins.



Paysage 1



Paysage 2



Paysage 3



Paysage 4



Paysage 5



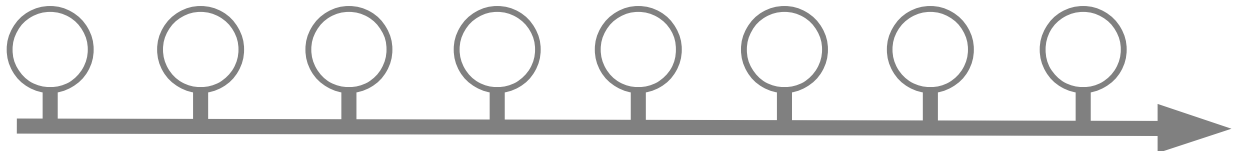
Paysage 6



Paysage 7



Paysage 8



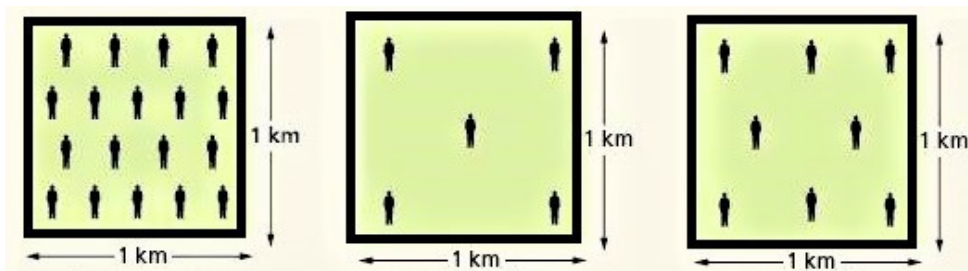
--

++

2) Selon vous, comment sont classés ces paysages ?

3) Complétez la légende de ces schémas avec les mots suivants :

densité moyenne / densité faible / densité forte



.....
.....

.....
.....

.....
.....

3 Où sont les hommes sur terre ?

A l'aide de l'objet qui vous aura été donné, répondez aux questions suivantes :

1) Comment s'appelle l'objet que vous avez devant vous ?

2) Cherchez dedans un document représentant le peuplement de la terre par les hommes.

A quelle page l'avez-vous trouvé ?

Comment s'appelle ce genre de document ?

3) Par quoi est représenté le peuplement de la terre sur votre document ?


4) Remplacez, en les entourant en rouge sur le document suivant, les espaces où les hommes sont les plus nombreux :

Quel type de projection est utilisée ici ?



4 Pour ne pas s'emmêler dans les définitions

Faites cette grille de mots croisés à partir des mots importants vus dans ce chapitre de géographie.



Horizontal

3. Nombre d'habitants/km²

6. Occuper l'espace et se l'approprier

7. Carte du monde

Vertical

1. Quand la densité est de 50 hab/km² on dit qu'elle est...

2. Projection qui part dans tous les sens

4. Endroit où se concentrent les hommes sur terre

5. vue d'un espace