


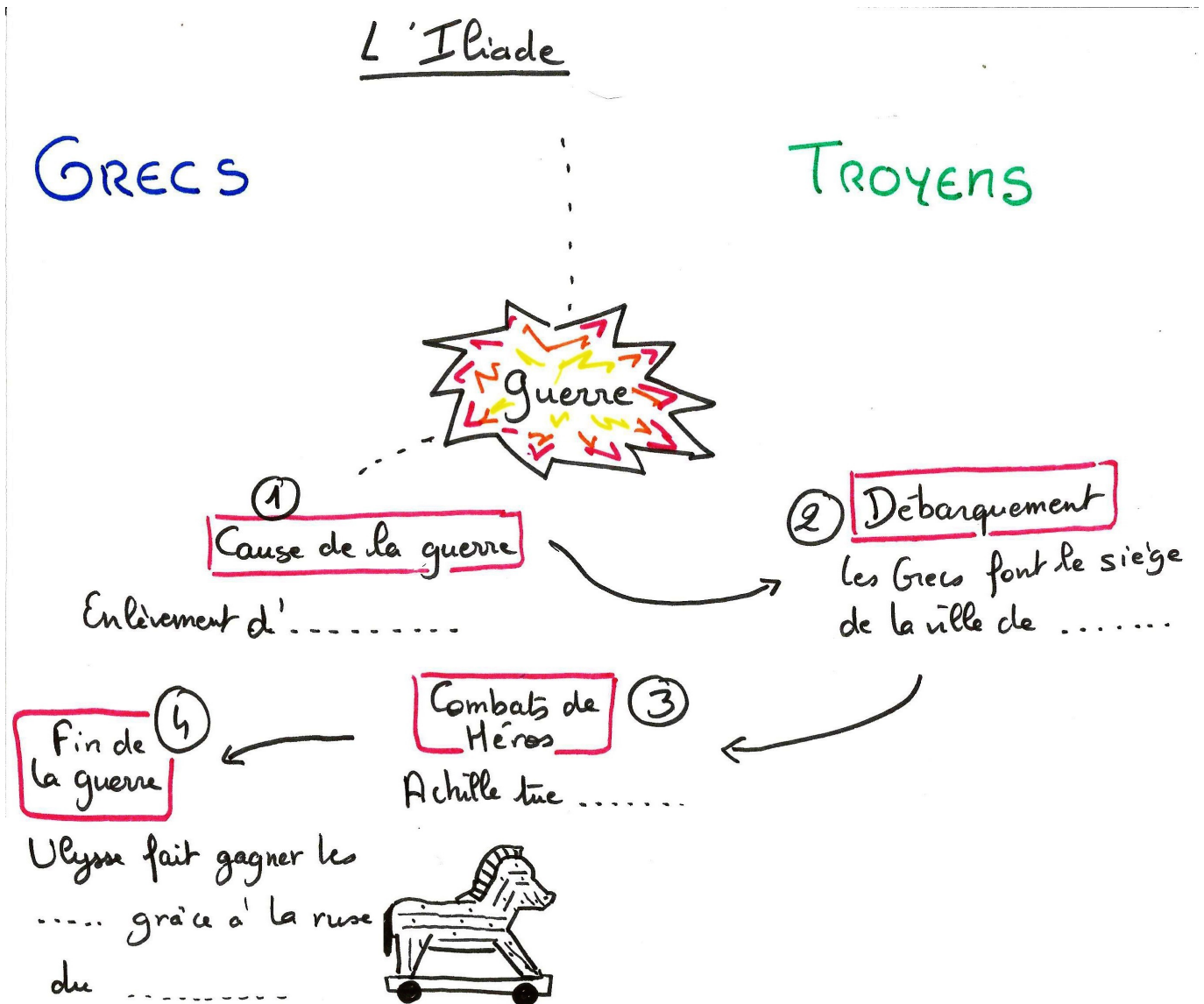
7 L'Iliade

Faites une recherche sur Homère et présentez-le avec vos mots.



Homère :

A partir du [document vidéo](#), remplissez le schéma qui résume la Guerre de Troie décrite dans le poème de l'Iliade d'Homère :



8 Athènes au Ve siècle avant J.-C.

1) Trouvez une définition simple de démocratie et recopiez-la :

Démocratie :

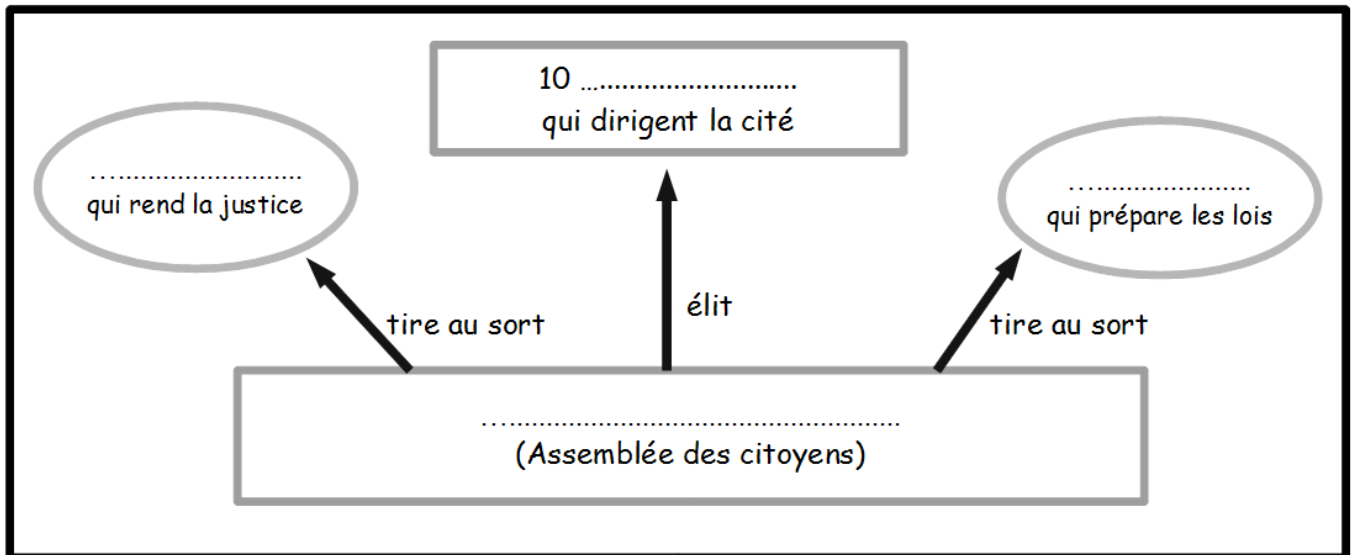
2) A partir de votre [manuel](#) p.84-85 , de vos informations et de votre réflexion vous allez devoir répondre à cette question : *Athènes est-elle une démocratie ?*

Suivez les étapes !

Étape 1 : Les institutions d'Athènes

Remplissez le schéma suivant :

Schéma des institutions athéniennes au Ve siècle avant J-C :



Qui prend les décisions les plus importantes à Athènes au Ve siècle ?

Étape 2 : Le point de vue des Athéniens

A partir de la lecture des deux textes de la double page du manuel répondez aux questions :

D'après Périclès quel est l'avantage de la démocratie Athénienne ?

.....
.....

D'après Euripide, pourquoi la démocratie permet l'égalité entre les citoyens ?

.....
.....

Étape 3 : Les habitants d'Athènes

Remplissez le tableau avec les informations présentes dans la double page du manuel.

Catégorie d'habitants	Quel est leur pourcentage ?	Que font-ils ? (cherchez dans les définitions)

Étape 4 : lister les pour et les contre

Pour faire le bilan de votre enquête, notez les raisons pour lesquelles Athènes peut être vue comme une démocratie et celles pour lesquelles elle ne peut pas être vue comme une vraie démocratie.

C'est une démocratie	Ce n'est pas une démocratie

Étape 5 : Athènes est-elle selon vous une démocratie ?

Oui Non car

.....

.....

.....