



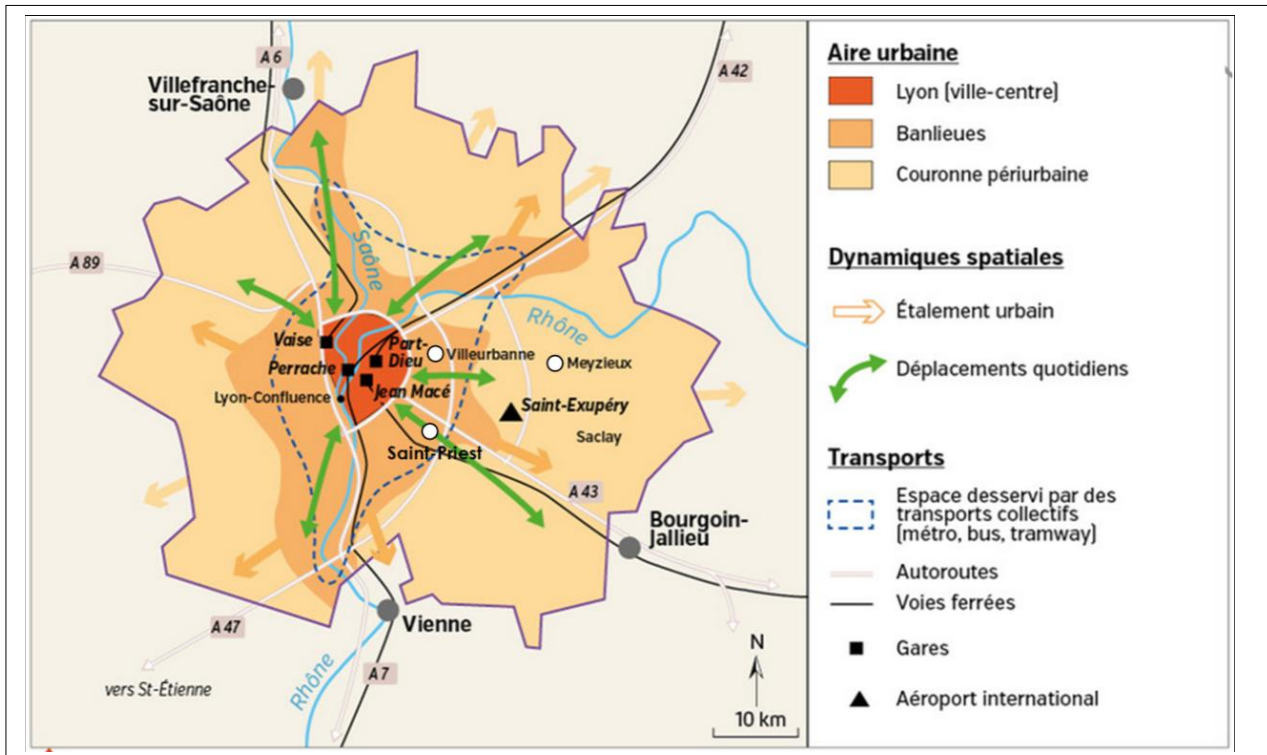
# Thème 1 : Dynamiques territoriales de la France contemporaine

## Les aires urbaines en France



### 1. Analyser des documents : A la découverte des aires urbaines !

**Document 1** :L'aire urbaine lyonnaise



1. Dans quel espace de la ville se trouve le quartier de Villeurbanne ? :

2. Nommez une commune située dans la couronne périurbaine:

3. Combien de parties composent l'aire urbaine de Lyon ?

Indice : A=1 ; B=2 ; C=3 ....

L'addition des trois nombres des cases grisées donne le nombre de la première aire urbaine: Toulouse

Avec vos mots, et à l'aide du document 1, donnez une définition d'une aire urbaine :

.....  
 .....  
 .....

Document 2 :



Le centre-ville de Lyon, place Jules-Ferry (2014)

a. Safia, de Lyon

« Avec mon conjoint, nous avons la chance d'habiter dans le centre de Lyon dans un immeuble place Jules Ferry. Le quartier est très animé et proche du parc de la Tête d'or. Il y a de nombreux commerces et loisirs (cafés, restaurants, cinés, théâtre, salles de sport). Je travaille à l'Université et je m'y rends en tramway ou en vélo.»

■ Grand Lyon Magazine n° 36, février 2012.

1. Quelles sont les deux activités du centre ville ?

		M							
					R				

Document 3 :



Le quartier G à Villeurbanne (2015)

b. Pierre, de Villeurbanne

« Ici, on a beaucoup de hauts immeubles de près de 20 étages. Le quartier est bien desservi par les transports en communs et on est proche des grandes zones commerciales.

Il y a une grande mixité sociale et culturelle : on a des gens aux revenus élevés qui cohabitent avec d'autres aux revenus plus bas. De même, si presque tous sont Français, les origines sont diverses : français de longue date, ou issus de l'immigration maghrébine, africaine ou asiatique. Il y a parfois des tensions. »

■ D'après Rue 89-Lyon, 17 juin 2014.

2. Qu'est ce qui caractérise ce quartier ?

					B				
--	--	--	--	--	---	--	--	--	--

3. Que recherche ce couple en s'installant à Meyzieux ?

		L		
--	--	---	--	--

4. Comment s'appelle ce type de quartier ?

					S					
--	--	--	--	--	---	--	--	--	--	--

5. Quels sont les inconvénients de ce quartier ?

		B								

Document 4 :



Des lotissements à Meyzieux (2013)

c. Jean-Marc, de Meyzieux

« Pour habiter dans une maison avec notre budget limité, pas d'autre choix que de s'éloigner de Lyon où les prix sont très élevés.

Nous avons trouvé notre bonheur à Meyzieux. Ma femme apprécie le calme du lotissement. Nous avons un jardin avec un petit potager et une cabane pour les enfants.

L'inconvénient, c'est de devoir prendre la voiture tous les jours et subir les embouteillages, car je travaille à Lyon à 25 km, et ici il n'y a pas de transport en commun.

■ D'après Le Progrès, septembre 2015.

Indice : A=1 ; B=2 ; C=3 ....

L'addition des six nombres des cases grisées donne le nombre de la deuxième aire urbaine : Bordeaux

--	--

**Document 5 :**

Entre 1954 et 2015, la population de l'aire urbaine de Lyon est passée de 930000 à 2,6 millions d'habitants. Dans les années 1950-1960, la croissance démographique a lieu essentiellement dans le centre de l'agglomération et dans la proche périphérie où de grands ensembles sont construits.

Puis, à partir des années 1970, ce sont les communes périurbaines qui se développent, toujours de plus en plus éloignées de l'agglomération. La couronne périurbaine de l'agglomération lyonnaise se situe maintenant à une distance moyenne de 40-45 km, contre 15 km dans les années 1990.

Beaucoup de ménages sont contraints de s'éloigner de plus en plus en raison d'une hausse des prix des terrains, contribuant ainsi à l'étalement urbain et à l'allongement des trajets domicile-travail.

D'après le Schéma de cohérence territoriale (SCOT) de l'agglomération lyonnaise, 2010

1. Citez un espace de la ville qui a vu sa population augmenter dans les années 1950-1960:

--	--	--	--	--	--	--

2. Citez un espace de la ville qui a vu sa population augmenter à partir des années 1970 :

--	--	--	--	--	--	--	--	--	--	--	--	--	--	--	--	--	--	--	--

3. Comment appelle t on ce développement de cet espace ?

--	--	--	--	--	--	--	--	--	--	--	--	--	--	--	--	--	--	--	--	--

Indice : A=1 ; B=2 ; C=3 ....

L'addition des trois nombres des cases grisées donne le nombre de la troisième aire urbaine : Nantes

--	--

Document 6 :

La Part-Dieu : un centre d'affaires

Lyon Part-Dieu est le cœur stratégique de la métropole lyonnaise et l'un des moteurs de son attractivité à l'échelle nationale et européenne. Lyon Part-Dieu se positionne comme un lieu d'échanges traversé par un demi-million de déplacements chaque jour : réseau de transports en commun (métro, tramway, lignes de bus), stations vélo'v (1), taxis, gare routière.

Construit autour de la gare TGV, en liaison directe avec Paris et l'Europe, le quartier de Lyon Part-Dieu s'est imposé comme le deuxième pôle tertiaire et de décision français. Plus de 2 200 établissements y emploient quelque 45 000 salariés, sur près d'1 million de m<sup>2</sup> de bureaux.

www.grandlyon.com, 2016.

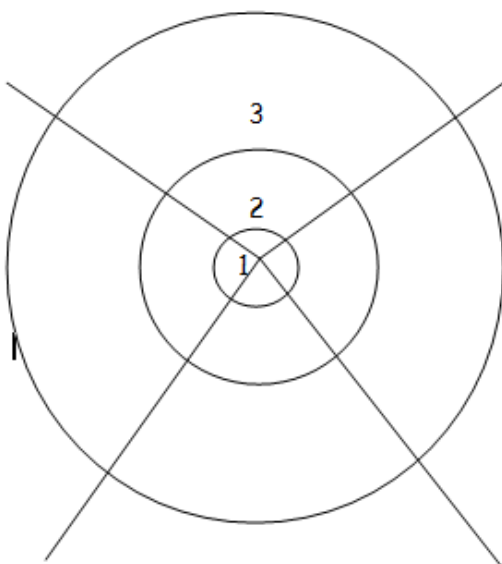
1. Service de location de vélos développé par la métropole Grand Lyon.

1. De quelle partie de la ville parle-t-on ici ?

2. Combien de salariés travaillent chaque jour dans ce quartier ?

Indice : A=1 ; B=2 ; C=3 ....

L'addition des deux nombres des cases grisées donne le nombre de la quatrième aire urbaine :  
Strasbourg



\_\_\_\_\_

## 2. Pratiquer différents langages : écrire un développement construit

Nom prénom : .....3<sup>ème</sup>....

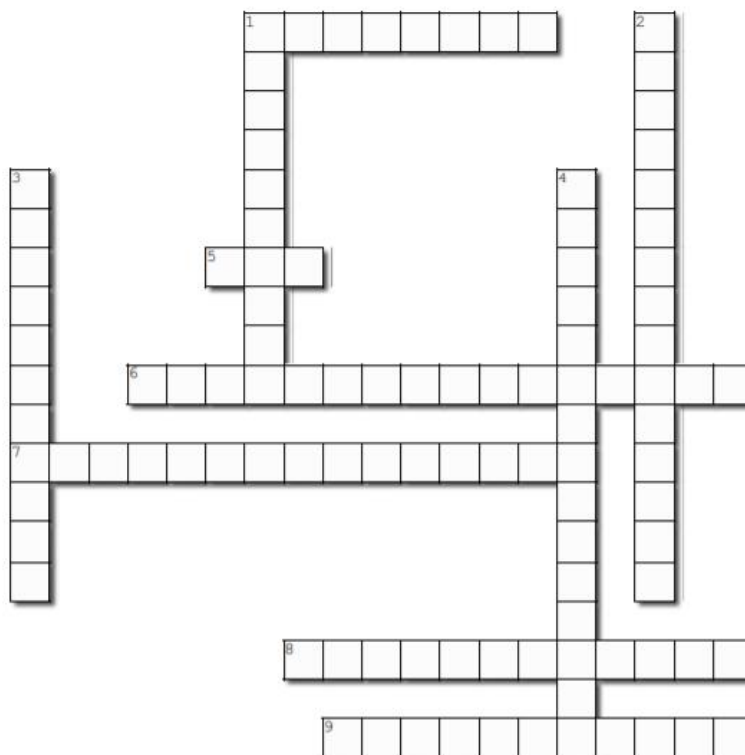
Sous la forme d'un paragraphe construit et en vous appuyant sur la ou les aires urbaines étudiées en classe, décrivez les espaces et les dynamiques des villes françaises.

Pour cela vous suivrez le plan donné :

introduction	Je donne un chiffre pour montrer que les aires urbaines dominent le territoire français et je dis de quelles aires urbaines je vais parler. Je présente ce qu'est une aire urbaine	
développement	En présentant les espaces (paysages) qui la composent, j'explique comment évoluent les aires urbaines et quelles sont les causes de cette évolution.	
	Je présente les mobilités, conséquence de cette évolution et les problèmes qui en découlent	
Conclusion	En rappelant le chiffre des aires urbaines, je précise le coté positif de cette évolution et le coté négatif	

Name: \_\_\_\_\_

Les mots croisés ci-dessous



Created using the Crossword Maker on TheTeachersCorner.net

### Horizontal

1. maison individuelle
5. quartier des affaires
6. immeubles regroupés au même endroit dans la banlieue et servant d'habitation
7. concentration de la population et des services dans une aire urbaine
8. augmentation de la population qui vit en ville
9. quartier d'habitation

### Vertical

1. espace autour de la ville
2. déplacements quotidiens des habitants de la périphérie au centre
3. ensemble d'habitations identiques concentrées dans un même lieu
4. ville qui grignote la campagne