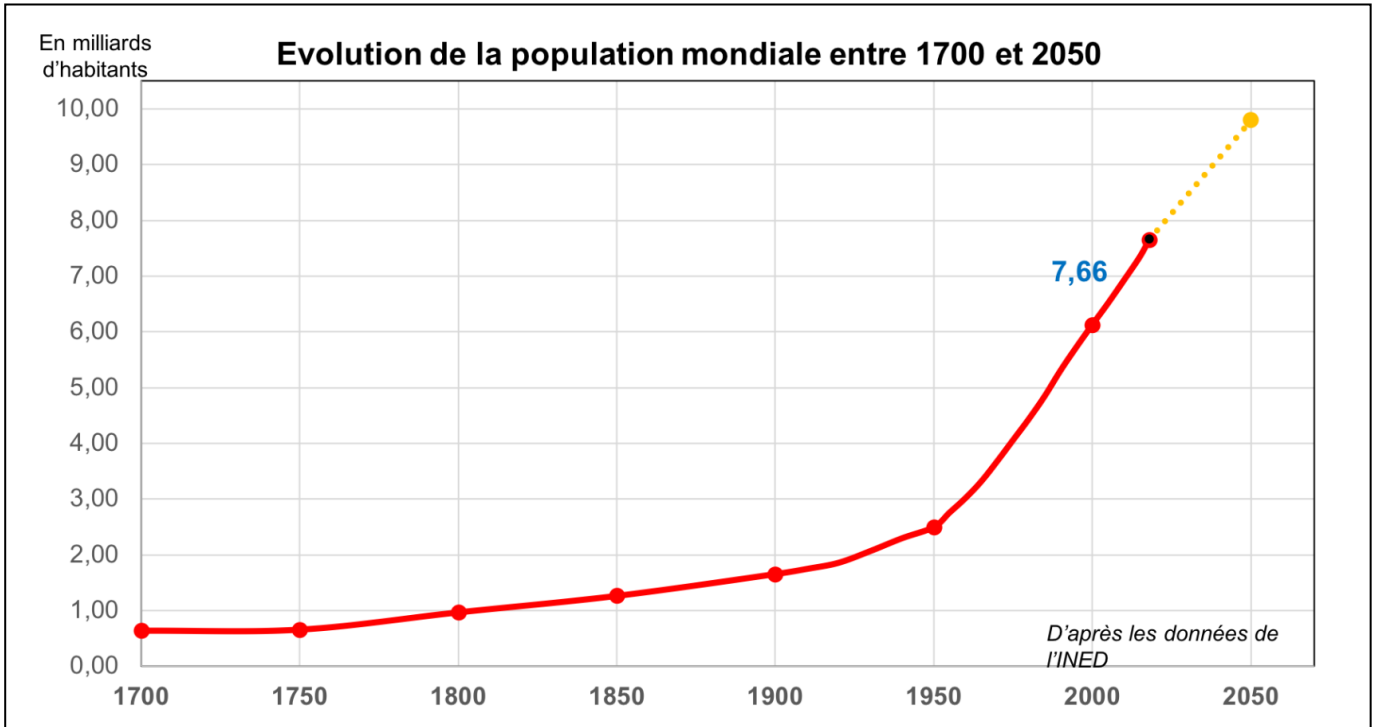




Thème 1 : La question démographique et l'inégal développement

La forte croissance démographique et ses effets

1- Lire et comprendre un document : un graphique



1. Présentez le document :

- Date :
- Auteur :
- Nature :
- Sujet :
- Source :

2. Combien d'habitants sommes-nous sur Terre actuellement ?

3. Que nous apprend ce document ?

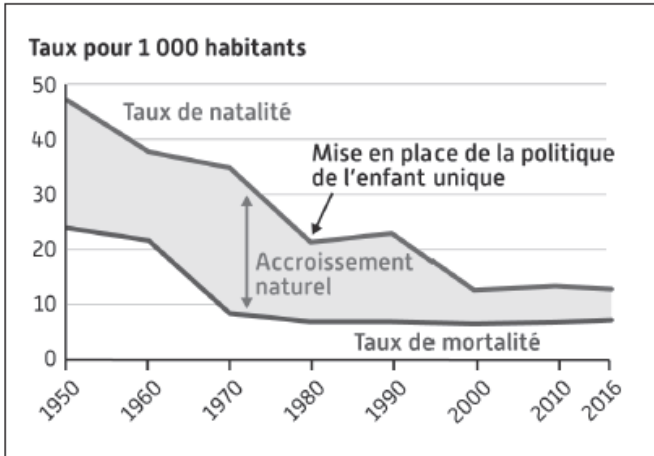
4. Pourquoi peut-on dire que la population mondiale a fortement augmenté ?

5. A quoi correspond la ligne en pointillé orange ?

6. Que nous apprend cette prévision ?

7. A l'aide de quelques phrases, construisez le résumé :

2- Lire et comprendre des documents : la croissance de la population chinoise



- Sur le graphique :
 - repasse en rouge la courbe du taux de natalité (nombre de naissances par an, pour mille habitants).
 - repasse en bleu la courbe du taux de mortalité (nombre de décès par an, pour mille habitants).
- Pour montrer comment on calcule l'accroissement naturel, complète l'opération suivante :

.....

..... -

..... = l'accroissement naturel

3. Comment l'accroissement naturel chinois a-t-il évolué depuis 1950 ? Entoure la bonne réponse.
- a. Il a augmenté b. Il est resté stable c. Il a diminué

(En 1979, la Chine avait mis en place) la politique de l'enfant unique par crainte qu'une hausse trop rapide de la population remette en cause sa croissance économique. Elle décidé d'y mettre fin et d'autoriser tous les couples à avoir deux enfants. La politique de l'enfant unique a en effet pour conséquence directe un vieillissement de la population. (...)La proportion des seniors pourrait être de 30 % de la population en 2030. Ce qui aura pour conséquence directe une baisse de la population en âge de travailler. Sans oublier que la préférence traditionnelle chinoise pour avoir un garçon a conduit à un déséquilibre de la population. Selon certaines projections, à l'horizon 2020 on pourrait dénombrer 30 millions de garçons de plus que de filles.

D'après Claude Fouquet, « Chine : la politique de l'enfant unique officiellement abandonnée » Lesechos.fr, 29 Octobre 2015

4. Comment a évolué le taux de natalité ? Explique cette évolution à l'aide du texte ci-dessus :

.....

.....

.....

5. À l'aide du texte, explique les causes du vieillissement de la population chinoise et ses effets.

.....

.....

Les défis du développement chinois :

Il s'agit de limiter les pollutions de l'air, des eaux et des sols et de faire face à la pression considérable que le développement et le poids démographique du pays exercent sur les ressources, en particulier sur l'eau. [...] La Chine connaît depuis la décennie 1990 un accroissement très fort des inégalités, non seulement de revenus, mais aussi dans l'accès au logement, à l'éducation et à la santé... Ces inégalités [notamment entre villes et campagnes], suscitent d'importants conflits.

S.COLIN, « La Chine, puissance mondiale », La Documentation photographique n° 8108, nov.-déc. 2015.

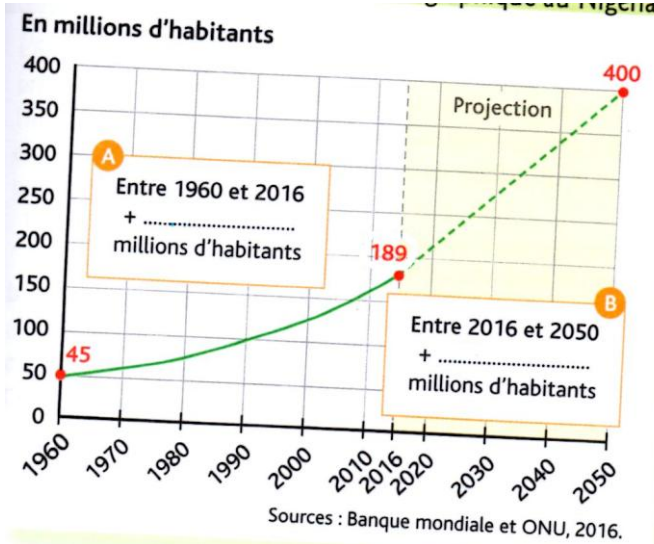
6. Que doit faire la Chine pour assurer son développement ?

.....

.....

3-J'analyse la croissance de la population du Nigéria

Doc 1 :



Le Nigeria connaît un fort taux de fécondité avec près de 6 enfants par femme. Il en résulte une population jeune : 44 % des Nigériens ont moins de 15 ans.

3. Présentez le document :

4. Sur le graphique :

- entourez le nombre d'habitants au Nigéria en 2016 puis calculez et écrivez dans le cadre A le nombre d'habitants que le pays a gagné entre 1960 et 2016.
- calculez et écrivez dans le cadre B le nombre d'habitants que le pays devrait gagner entre 2016 et 2050

5. Dans la légende, soulignez en vert la cause de cette augmentation de la population et en rouge la conséquence.



4. Où se trouve le Nigéria ?

Doc 2 : Le Nigeria est aujourd'hui dans les dix pays les plus peuplés au monde(...). En 2050, il passera à la troisième place, avec presque 400 millions d'habitants. (et) dépasserait par exemple les États-Unis (388 millions) ou le Brésil (238 millions), plus peuplés que lui aujourd'hui. [...]

Cette progression démographique impressionnante va compliquer la tâche de son gouvernement(...) pour satisfaire les besoins alimentaires (...) et arriver à donner à ces jeunes générations une éducation, un système de santé ainsi que des emplois.

D'après Olivier Bories, Le Point, 12 Août 2015

5. Souligne dans le document ci-dessus, la phrase qui affirme que le Nigéria sera l'une des plus grandes puissances démographiques en 2050.

6. Relevez deux problèmes que va rencontrer le gouvernement d'ici 2050 :

.....
.....