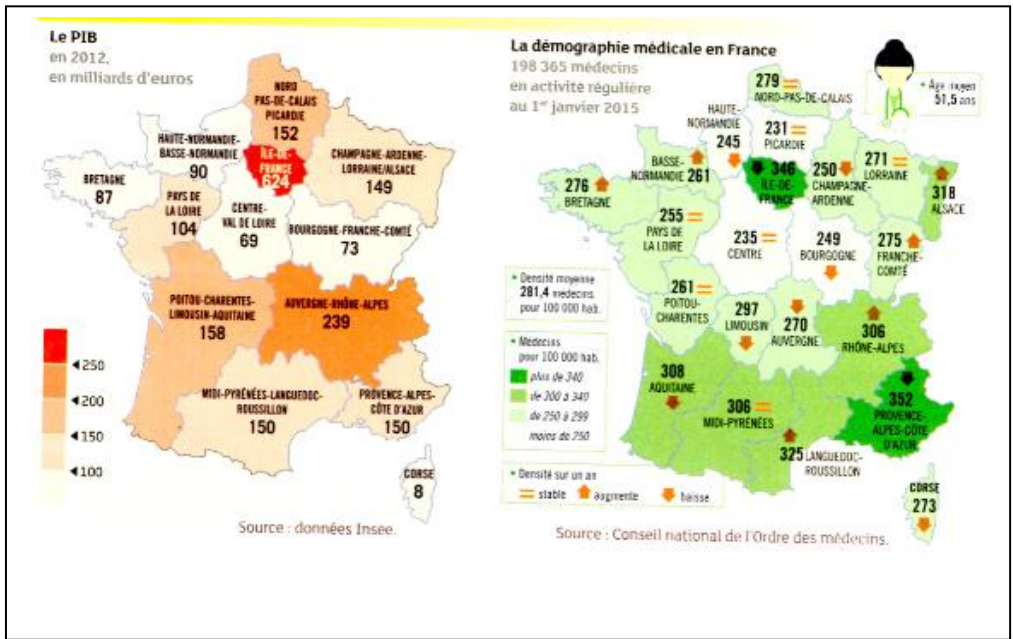


Thème 2 : Pourquoi et comment aménager le territoire ?
Aménager pour réduire les inégalités, aménager les territoires ultramarins

1. Analyser et comprendre des documents : pourquoi aménager le territoire ?



1. Citez la région française qui semble avoir la situation la plus favorable :
 2. Donnez des exemples de fortes inégalités entre les régions françaises :
-
-
-
-
-
-

2. Pratiquer différents langages : compléter un croquis

A l'aide des deux cartes au tableau, construisez le croquis de l'aménagement du territoire français :

Etape 1 : Prélever des informations

Doc 1

1. Quels figurés a-t-on utilisé pour représenter les métropoles ?
.....
2. Quelle est la place de Paris dans les réseaux de transport ?
.....

Doc 2

3. Quels sont les contrastes entre les différents espaces du territoire national ?
-

Etape 2 : Organiser la légende

Doc 3

4. Dessinez les figurés manquants de la première partie de la légende.
5. Trouvez les intitulés manquants de la deuxième partie de la légende
6. Complétez la troisième partie de la légende.

Nom :

Prénom :

Classe :

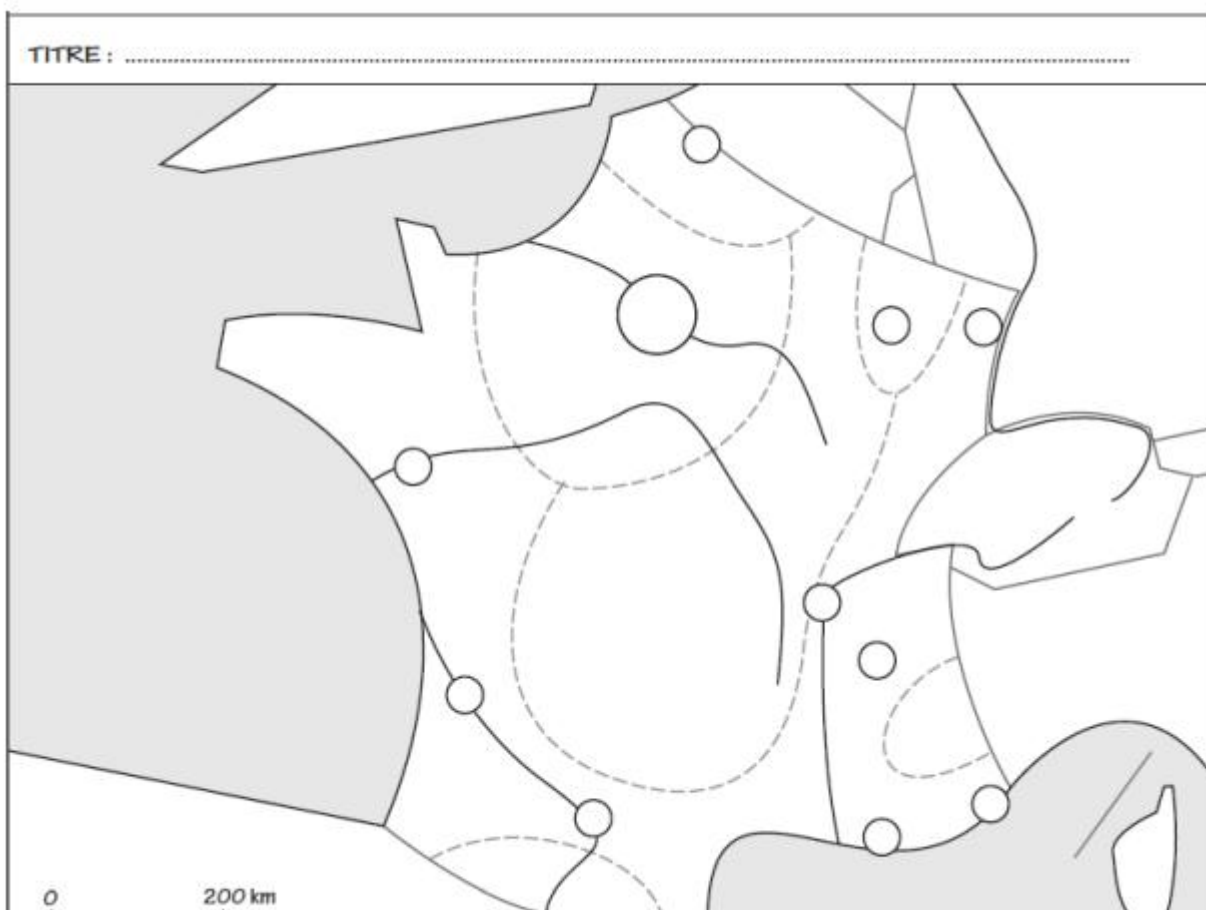
EVALUATION : PRATIQUER DIFFERENTS LANGAGES :
Compléter un croquis de l'aménagement du territoire français

Appréciation :

Compétences évaluées	Maîtrise insuffisante	Maitrise fragile	Maitrise satisfaisante	Très bonne maîtrise
Pratiquer différents langages				

Etape 3 : compléter le croquis

7. Complétez le croquis à l'aide des figurés choisis
8. Ajoutez le nom des métropoles, des fleuves, des mers et des pays frontaliers
9. Donnez un titre au croquis.



<p>1. Un territoire organisé par les métropoles et les axes de transport</p> <p>..... métropole mondiale</p> <p>..... autre métropole</p> <p>..... axe de transport majeur</p> <p>..... autre axe de transport</p>	<p>2. Un territoire aménagé, ouvert sur l'Europe et le monde</p> <p>□</p> <p>△</p> <p>▲</p> <p>↔</p>	<p>3. Les contrastes du territoire</p> <p>□</p> <p>□</p> <p>□</p> <p>□</p>
---	---	---

3. Comprendre des documents: un exemple d'aménagement : le Louvre Lens



Le Nord-Pas-de-Calais est l'une des régions de France métropolitaine les plus défavorisées : le revenu médian de ses habitants et son indice de développement humain sont les plus faibles des régions françaises (notamment sur les critères relatifs à la santé et à l'espérance de vie), son taux de chômage (12,8 % fin 2013, 13 % fin 2014) est le second du pays, et son taux de pauvreté (19,3 %, soit 5 points au-dessus de la moyenne métropolitaine), le troisième.

lemonde.fr, 26 novembre 2015.

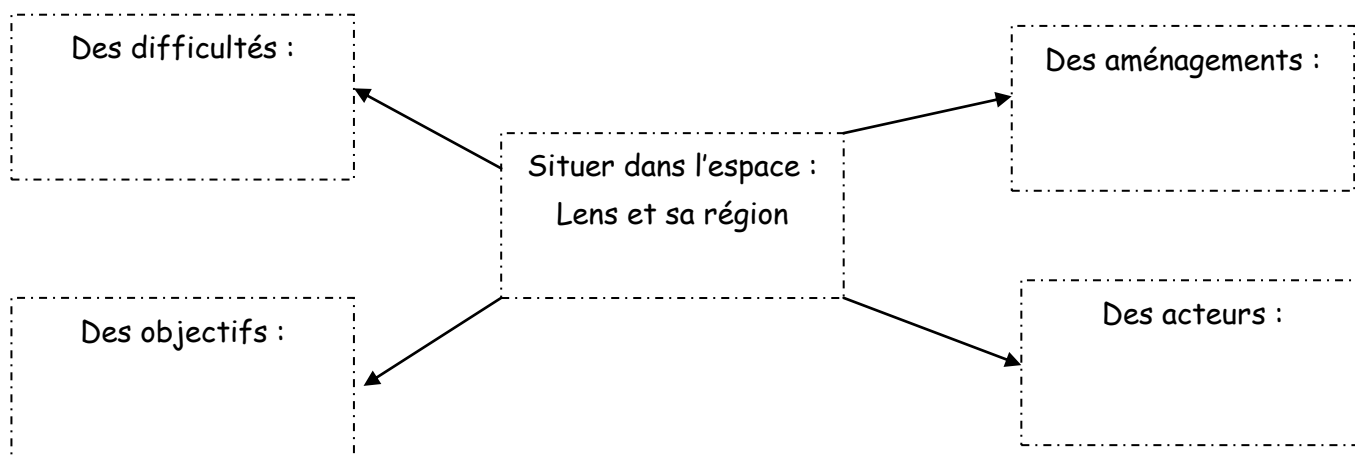
<https://www.youtube.com/watch?v=4RnMIWIJWrQ>

1. Situez la ville de Lens et le type d'espace auquel elle appartient :

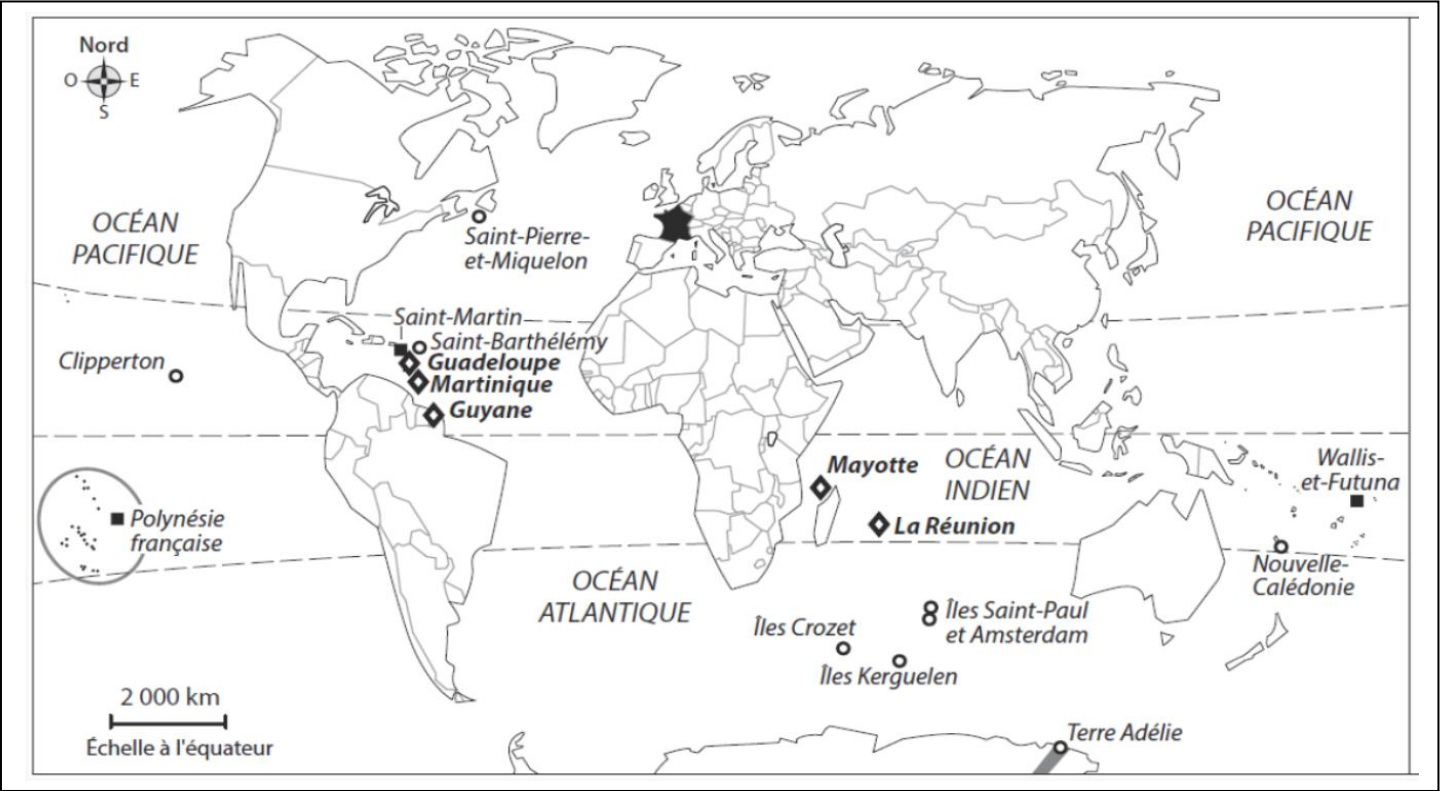
2. Relevez les éléments qui témoignent d'un passé industriel. Identifiez l'activité qui dominait :

3. Identifiez les axes de transport qui permettent une bonne accessibilité au récent musée du Louvre-Lens :

4. Complétez le suivant :



2. Se repérer dans l'espace : les territoires ultramarins



<u>Des statuts différents :</u>	◆	DROM (départements et régions d'outre mer)
	■	COM (collectivités d'outre mer)
	○	Autre statut
<div style="display: inline-block; width: 20px; height: 20px; background-color: black; margin-right: 5px;"></div> France métropolitaine		

1. Quels sont les différents statuts des territoires ultramarins ?
2. Quel est le DROM se situant le plus loin de la France métropolitaine ? Le plus près ? En quoi cette distance représente-t-elle une contrainte ?.....
3. Quels sont les atouts des territoires ultramarins pour la France ?.....
4. Observe les documents au tableau et complétez le tableau ci-dessous :

Points communs	
Différences	
Contraintes naturelles	

Un exemple : La Réunion



1. Localiser puis situer l'île de La Réunion par rapport à la France.....

2. Où la population se concentre - t- elle surtout ? Quelles contraintes naturelles expliquent cette répartition de la population ?

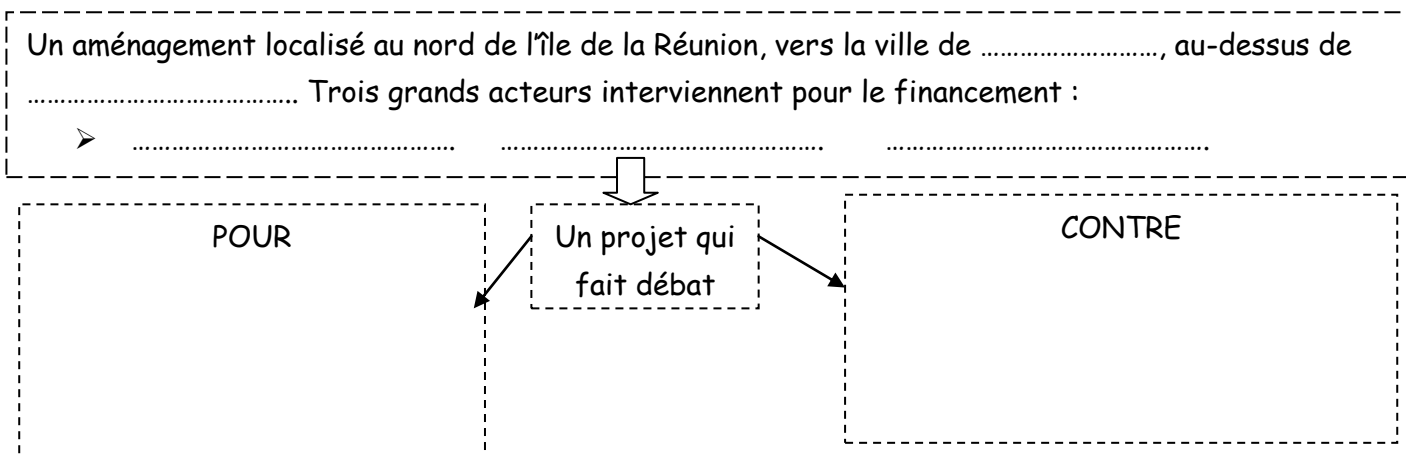
3. A votre avis, quelle est l'activité économique essentielle de La Réunion ?

Vidéo : <https://www.youtube.com/watch?v=A8clWLLy6PY>

4. Quel est l'aménagement dont il est question ici ?

5. Pour quelle raison est il réalisé ?

Bilan : complétez le schéma suivant



NOM :

Prénom :

Note :

Observez la carte des territoires ultramarins français de votre cahier :

- 1) Quel est le point commun de presque tous ces territoires ?
- 2) Dans quels océans sont ils situés ?

Manuel pages 340/341

- 3) Localisez l'île. Situez- la par rapport à la France. A quelle distance de la métropole se trouve t elle ?

Doc 1 et 2 :

- 4) Quelles contraintes rencontre cette île ?
- 5) Où la population est elle concentrée ? Pourquoi ?

Manuel pages 342/343

Doc 5 :

- 6) Quelle contrainte cet aménagement a-t-il dépassé ?
- 7) Relevez deux objectifs de cet aménagement :

Doc 5 et 6 :

- 8) Quels sont les acteurs de l'aménagement de La Réunion ?

Doc 7 :

- 9) Relevez deux chiffres montrant des inégalités entre la métropole et La réunion :

Exercice 1 page 352 :

Contraintes	Aménagements	Acteurs	Difficultés à surmonter
➤	➤	➤	➤
➤	➤	➤	➤
➤			