



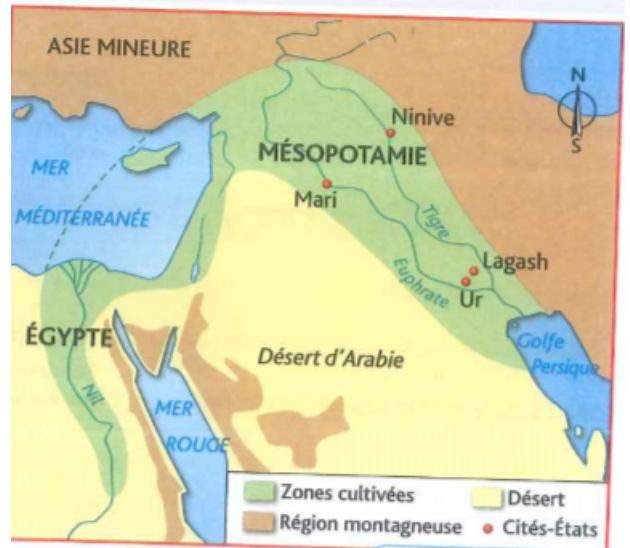
# Se repérer dans l'espace



## Exercice 1

Consigne : Observez la carte ci-dessous puis répondez aux questions

1. Sur la carte, soulignez le nom de la région :  
Mésopotamie
2. Situez la à l'aide des points cardinaux et des repères géographiques : .....
3. Sur la carte, entourez les deux fleuves de la Mésopotamie.
4. Ecrivez le nom de 2 cités états : .....



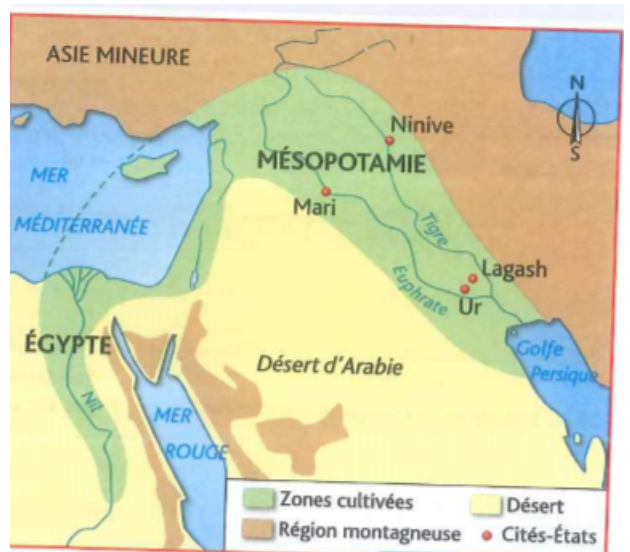
# Se repérer dans l'espace



## Exercice 1

Consigne : Observez la carte ci-dessous puis répondez aux questions

1. Sur la carte, soulignez le nom de la région :  
Mésopotamie
2. Situez la à l'aide des points cardinaux et des repères géographiques : .....
3. Sur la carte, entourez les deux fleuves de la Mésopotamie.
4. Ecrivez le nom de 2 cités états : .....





# Se repérer dans l'espace



## Exercice 2

Consigne : A l'aide du planisphère des pays du monde du classeur ressources , situez les 5 pays suivants en utilisant les repères géographiques que vous connaissez:

Inde : .....

Canada : .....

Argentine : .....

Suède : .....

Egypte : .....

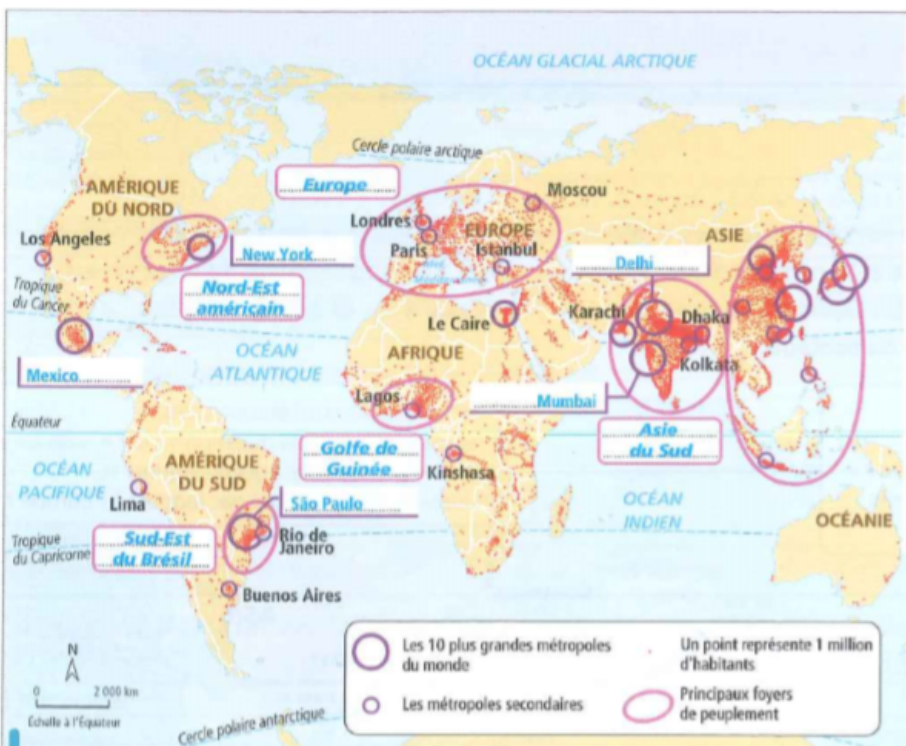


# Se repérer dans l'espace



## Exercice 3

Consigne : Observez le planisphère ci-dessous puis répondez aux questions :



1. Nommez 5 des 10 plus grandes métropoles mondiales : .....

.....

2. Nommez 2 métropoles secondaires : .....

.....

3. Que représente un point sur cette carte ? .....

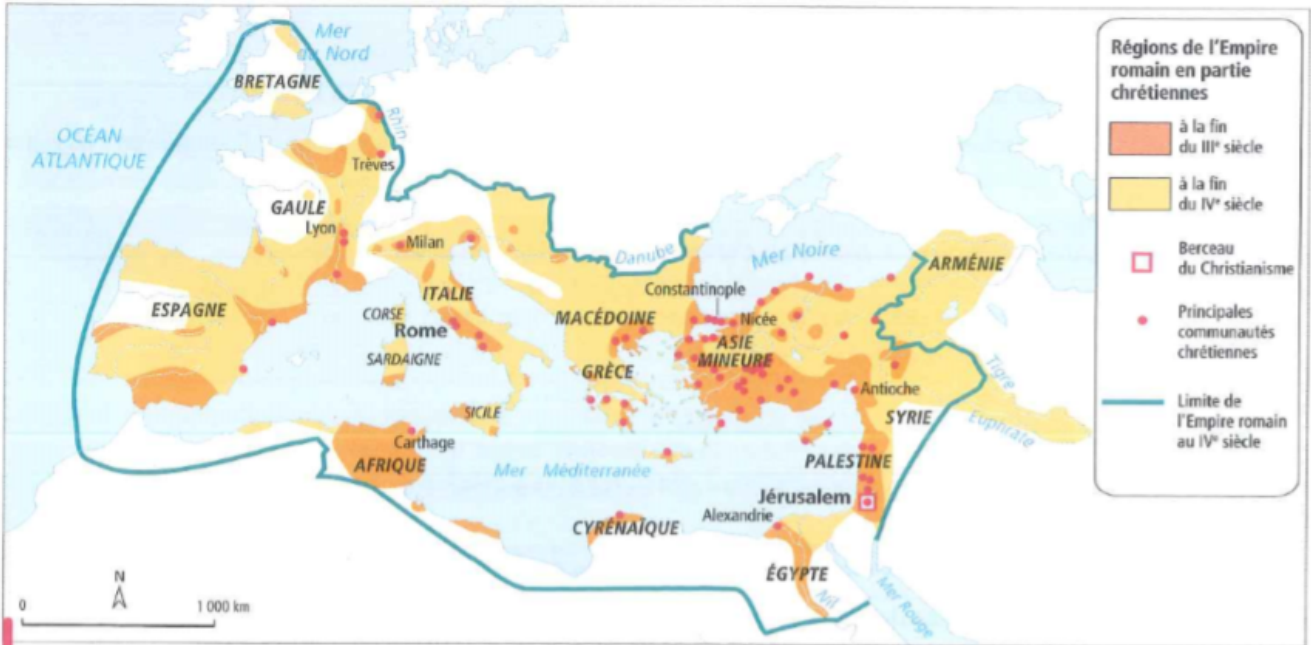
.....

4. Situez Moscou à l'aide des repères géographiques que vous connaissez : .....



Exercice 4

Consigne : Sur le document suivant entourez en rouge la légende, puis répondez aux questions :



Le christianisme dans l'Empire romain

1 : Retrouvez les informations de la carte en associant chaque phrase ci-dessous au figuré de légende qui lui correspond

Je suis la région du monde où est apparu le christianisme. ●

Je suis une plage de couleur qui représente les régions de l'Empire romain en partie chrétiennes à la fin du III<sup>e</sup> siècle. ●

Je suis une plage de couleur qui représente les régions de l'Empire romain devenues en partie chrétiennes à la fin du IV<sup>e</sup> siècle. ●



- 2. Citez 3 communautés chrétiennes : .....
- 3. Reproduisez le figuré qui indique la limite de l'empire romain au IV<sup>e</sup> siècle : .....



Exercice 5 :

Consigne : Répondez aux questions suivantes :

- 1. Quel est le continent qui se situe à l'ouest de l'Afrique ? .....
- 2. Quel est le continent qui se situe à l'Est de l'Europe ? .....
- 3. Quel est le continent qui se situe au Sud-est de l'Asie ? .....
- 4. Quel est le continent qui se situe à l'Ouest de l'Europe ? .....

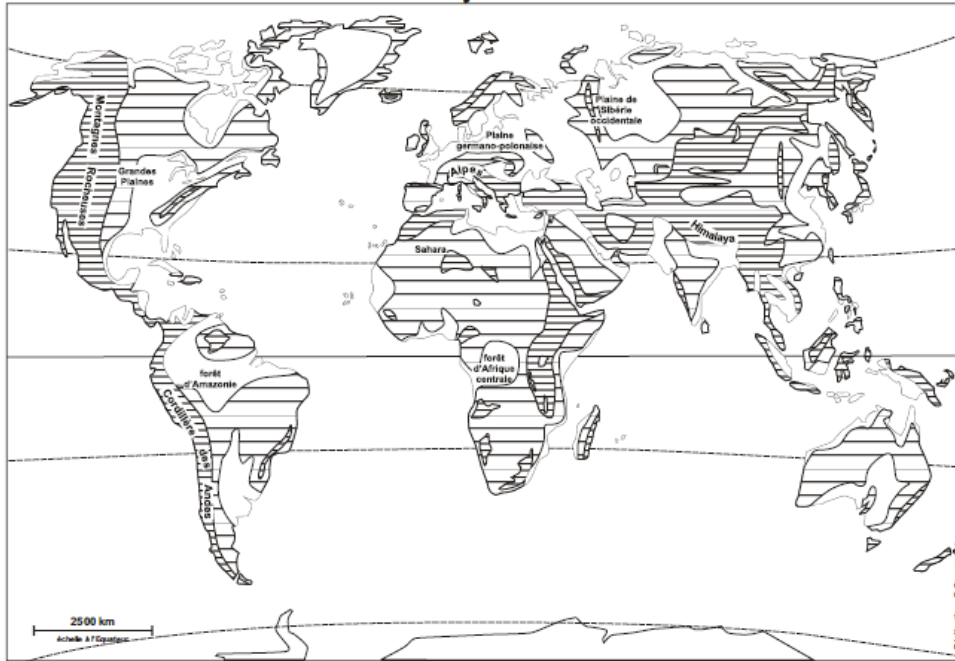





# Se repérer dans l'espace



## Exercice 6:

Consigne : Sur le document ci-dessous , coloriez en orange les plateaux et les moyennes montagnes, puis situez le Sahara à l'aide des repères géographiques.....



-  Plaines
-  Plateaux et moyennes montagnes
-  Hautes montagnes et hauts plateaux

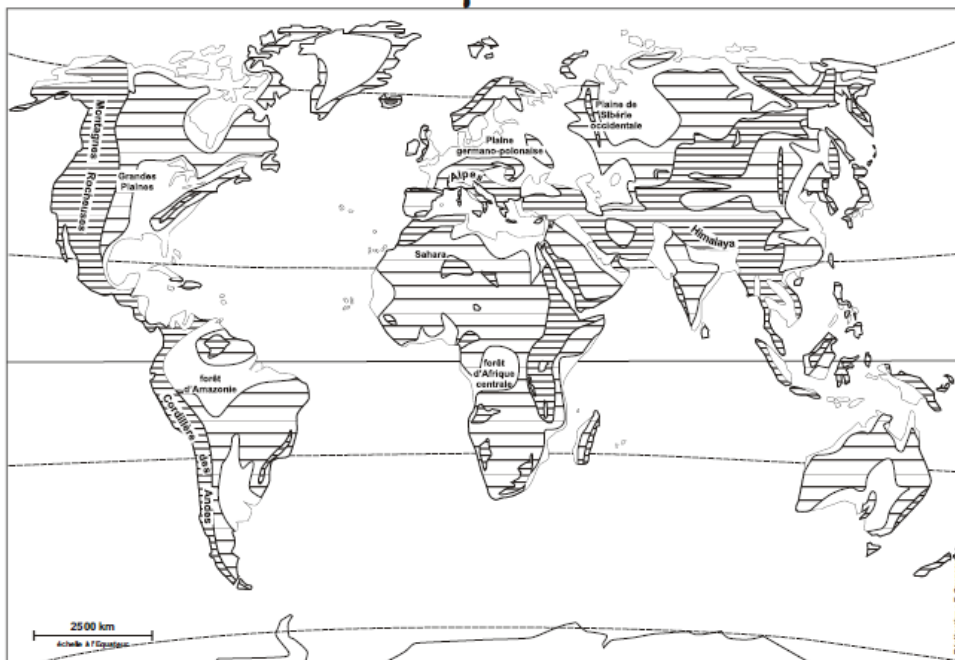





# Se repérer dans l'espace



## Exercice 6:

Consigne : Sur le document ci-dessous , coloriez en orange les plateaux et les moyennes montagnes, puis situez le Sahara à l'aide des repères géographiques : .....

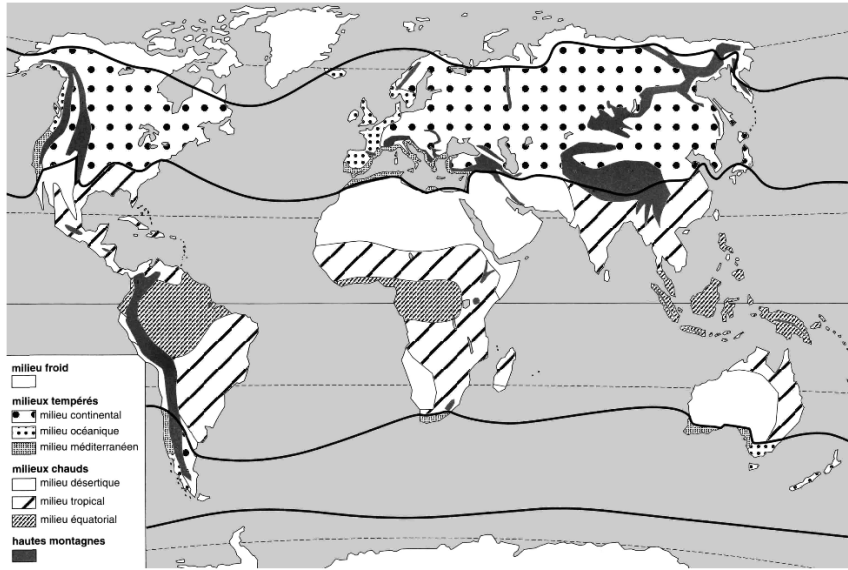


-  Plaines
-  Plateaux et moyennes montagnes
-  Hautes montagnes et hauts plateaux



**Exercice 7:**

Consigne : Observez la carte puis répondez aux questions :

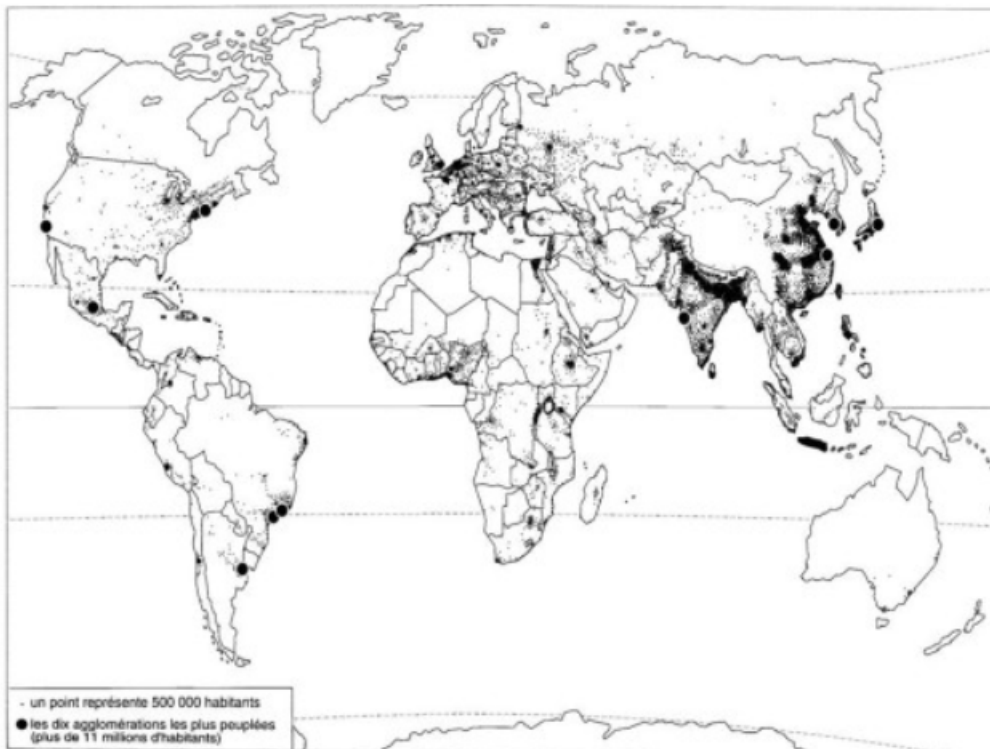


1. Nommez les 2 continents sur lesquels on trouve le climat continental :.....  
.....
2. Quels sont les 3 continents sur lesquels se trouve le climat désertique ?  
.....  
.....
3. Sur quel continent ne trouve t on pas de climat équatorial ? .....  
.....
4. Sur quels continents trouve t on les grandes chaînes de montagnes ? .....  
.....



**Exercice 8:**

Consigne : Observez le document puis répondez aux questions :



1. Que représente un point ?  
.....  
.....
2. Comment sont représentées les agglomérations de plus de 11 millions d'habitants ?  
.....  
.....
3. Nommez le continent sur lequel se trouve le plus grand nombre d'habitants :  
.....
4. Quels sont les continents sur lesquels il y a quasiment prsonne ? .....  
.....